

# 令和8年度 歴史総合・日本史探究入試問題 (1日目)

第1問 次の文章（Ⅰ・Ⅱ）を読み、下の問い（問1～10）に答えよ。解答は各問いの下にある選択肢から一つ選べ。解答欄は  ～

（Ⅰ）710年、元明天皇は藤原京から奈良盆地北部の平城京へと遷都した。平城京は唐の都  にならい、碁盤の目状に東西・南北に走る道路で区画される  をもつ都市であった。平城京には貴族・官人・庶民が住み、大寺院が立派な伽藍建築を誇った。北部中央の平城宮近くには  邸など貴族たちの大邸宅が並び、宮から遠い地区には下級官人の小規模な住宅が分布していた。平城京遷都より先、708年に武蔵国から銅が献上されると、政府は年号を改め、[A] 錢貨を鑄造した。8世紀の初めは皇族や中央の有力貴族間で勢力が比較的均衡に保たれていたが、やがて藤原氏が進出してきた。[B] 藤原不比等は律令の制定に大きな役割を果たし、娘の宮子を文武天皇に嫁がせ、その子の皇子にも娘の  を嫁がせて天皇家と密接な関係を築いた。不比等の死後、皇族の  が政権を握ったが、不比等の子の4兄弟の策謀によって729年に  は自殺に追い込まれた。そして  が皇后に立てられた。しかし、737年に流行した天然痘により、4兄弟は相次いで病死した。かわって皇族出身の橘諸兄が政権を握ると、[C] 唐から帰国した留学生や学問僧が聖武天皇に信任されて活躍した。

問1 空欄  ・  に入る語句の組み合わせとして正しいものを、次の

①～④のうちから一つ選べ。解答欄は

- |   |      |       |   |      |       |
|---|------|-------|---|------|-------|
| ① | a 洛陽 | b 条坊制 | ② | a 洛陽 | b 条里制 |
| ③ | a 長安 | b 条坊制 | ④ | a 長安 | b 条里制 |

問2 空欄  ・  に入る人物の組み合わせとして正しいものを、次の

①～④のうちから一つ選べ。解答欄は

- ① c 長屋王 d 光明子      ② c 長屋王 d 彰子  
③ c 以仁王 d 光明子      ④ c 以仁王 d 彰子

問3 下線部 [A] に関連して、このとき鑄造された貨幣として正しいものを、

次の ①～④のうちから一つ選べ。解答欄は

- ① 永楽通宝      ② 乾元大宝      ③ 富本銭      ④ 和同開珎

問4 下線部 [B] に関連して、藤原不比等らが編纂した大宝律令について述べ

た次の文 X・Y について、その正誤の組み合わせとして正しいものを、下の

①～④のうちから一つ選べ。解答欄は

X 律は唐のものを手本にしたもので、今日の刑法にあたる。

Y 令は隋のものを手本にしたもので、今日の民事訴訟法にあたる。

- ① X 正 Y 正      ② X 正 Y 誤  
③ X 誤 Y 正      ④ X 誤 Y 誤

問5 下線部 [C] に関連して、唐から帰国して聖武天皇のもとで活躍した人物

の組み合わせとして正しいものを、次の ①～④のうちから一つ選べ。

解答欄は

- ① 吉備真備・玄昉      ② 吉備真備・曇徴  
③ 阿倍仲麻呂・玄昉      ④ 阿倍仲麻呂・曇徴

(II) [D] 仏教政治の弊害を改め、天皇権力を強化するため、桓武天皇は 784 年に平城京から山背国の長岡京に遷都した。しかし、天皇の腹心で長岡京造営を主導していた  が暗殺され、その首謀者とされた皇太子の早良親王が失脚する事件がおきた。そして、794 年には平安京に遷都して、山背国を山城国と改めた。その後、 が鎌倉に幕府を開くまでの約 400 年間で平安時代という。平安京の造営と併行して、桓武天皇は東北地方の蝦夷に積極的な攻勢をかけた。特に、征夷大將軍となった  は、802 年に胆沢城を築いて蝦夷の族長・阿弭流為を服属させるなどした。しかし、平安京造

営と東北地方での戦いという二大政策は、国家財政や民衆にとって大きな負担となったため、805年、桓武天皇は徳政相論と呼ばれる議論を裁定して、ついにこれらの事業を打ち切ることにした。桓武天皇は、積極的に政治改革を進めた。国家財政悪化の原因となった地方政治の緩みをなくそうとし、 を設けて国司の交替の際の事務の引継ぎを厳しく監督させた。このような政治改革の方針は、平城天皇・嵯峨天皇にも引き継がれた。平城天皇の弟でその後に即位した嵯峨天皇は、[E]平城太上天皇と対立した。この対立は嵯峨天皇側が迅速に兵を展開して、太上天皇を出家に追い込んだことで終結した。この対立の際に、天皇の命令をすみやかに太政官組織に伝えるために、秘書官長としての  が設けられ、藤原冬嗣らが任命された。

問6 下線部 [D] に関連して、奈良時代に孝謙太上天皇の看病にあたり寵愛を受けた僧で、のちに、皇位をうかがうまでに権勢をふるった人物として正しいものを、次の ①～④のうちから一つ選べ。解答欄は

- ① 空也                      ② 行基                      ③ 鑑真                      ④ 道鏡

問7 空欄  ・  に入る人物の組み合わせとして正しいものを、次の ①～④のうちから一つ選べ。解答欄は

- ① e 藤原仲麻呂 f 源頼朝                      ② e 藤原仲麻呂 f 源実朝  
 ③ e 藤原種継 f 源頼朝                      ④ e 藤原種継 f 源実朝

問8 空欄  に入る人物として正しいものを、次の ①～④のうちから一つ選べ。解答欄は

- ① 紀古佐美                      ② 伊治咎麻呂                      ③ 和気清麻呂                      ④ 坂上田村麻呂

問9 空欄  ・  に入る語句の組み合わせとして正しいものを、次の ①～④のうちから一つ選べ。解答欄は

- ① h 勘解由使 i 健児                      ② h 勘解由使 i 藏人頭  
 ③ h 検非違使 i 健児                      ④ h 検非違使 i 藏人頭

問10 下線部〔E〕に関連して、平城太上天皇の寵愛を受け、この対立の背景をなしていた人物がいたが、その人物として正しいものを、次の①～④のうちから一つ選べ。解答欄は

- ① 出雲阿国      ② 北条政子      ③ 藤原薬子      ④ 日野富子

第2問 次の文章（Ⅰ・Ⅱ）を読み、下の問い（問1～10）に答えよ。解答は各問いの下にある選択肢から一つ選べ。解答欄は  ～

（Ⅰ）室町幕府3代将軍の足利義満の頃には、南北朝の動乱もしいにおさまり、幕府は安定するようになった。義満は1392年に[A]南北朝の合体を実現し、動乱に終止符を打った。また義満は、それまで朝廷が保持していた権限を幕府の管轄下におき、全国的な統一政権としての幕府を確立した。[B]義満は動乱の中で強大となった守護の統制をはかり、外様の有力守護を攻めて、その勢力の削減につとめた。また、[C]幕府の機構もこの時代にはほぼ整った。幕府は、将軍権力を支える軍事力の育成につとめ、古くからの足利氏の家臣、守護の一族、有力な地方武士などを集めて  と呼ばれる直轄軍を編成した。それは、平時は京都で将軍の護衛に当たるとともに、諸国に散在する将軍の直轄領である  の管理を委ねられ、守護の動向をけん制する役割も果たした。

問1 下線部 [A] に関連して、南北朝の動乱について述べた文として、誤っているものを、次の①～④のうちから一つ選べ。解答欄は

- ① 足利義昭は、1336年に当面の政治方針として御成敗式目を定めた。
- ② 後醍醐天皇は、吉野の山中にこもって正統の皇位にあることを主張した。
- ③ 南朝側では北畠親房が中心となって抗戦を続けた。
- ④ 北朝側は持明院統、南朝側は大覚寺統をそれぞれの皇統としていた。

問2 下線部 [B] に関連して、足利義満に攻められた有力な守護大名として 誤っているものを、次の①～④のうちから一つ選べ。解答欄は

- ① 土岐氏                      ② 山名氏                      ③ 大内氏                      ④ 毛利氏



朝鮮半島では、1392年、を撃退して名声を上げた武将のが高麗を倒し、朝鮮を建てた。朝鮮もまた通交を日本に求め、足利義満もこれに応じたので、両国のあいだに国交が開かれた。

問6 空欄・に入る語句の組み合わせとして正しいものを、次の

①～④のうちから一つ選べ。解答欄は

① c 悪党 d 朱元璋 ② c 悪党 d 李鴻章

③ c 倭寇 d 朱元璋 ④ c 倭寇 d 李鴻章

問7 下線部 [D] に関連して、日明貿易について述べた次の文X・Yについて、その正誤の組み合わせとして正しいものを、下の①～④のうちから一つ選べ。解答欄は

X 遣明船は明から交付された勘合と呼ばれる証票の持参が必要であった。

Y 日本から明への輸出品は、生糸、高級織物、陶磁器などが中心であった。

① X 正 Y 正 ② X 正 Y 誤

③ X 誤 Y 正 ④ X 誤 Y 誤

問8 空欄に入る語句として正しいものを、次の①～④のうちから一つ選べ。解答欄は

① 安東大將軍 ② 征夷大將軍 ③ 日本国王 ④ 大君

問9 空欄に入る語句として正しいものを、次の①～④のうちから一つ選べ。解答欄は

① 富山浦 ② 乃而浦 ③ 塩浦 ④ 寧波

問10 空欄に入る人物として正しいものを、次の①～④のうちから一つ選べ。解答欄は

① 李成桂 ② 溥儀 ③ 袁世凱 ④ 尚巴志

第3問 次の文章（Ⅰ・Ⅱ）を読み、下の問い（問1～10）に答えよ。解答は各問いの下にある選択肢から一つ選べ。解答欄は  ～

（Ⅰ）江戸幕府10代将軍徳川家治の時代に、幕府政治の中心にあったのが、側用人から老中になった田沼意次であった。[A]「米公方」と称され、年貢増徴などを中心に政策を進めた8代将軍徳川吉宗に対して、意次は[B]商人の経済力を利用して幕府の財政を再建しようとした。また、長崎貿易では、銅や干した海産物を詰めた  などを輸出して金・銀の輸入をはかった。さらに、仙台藩の医師  の意見書『赤蝦夷風説考』を取り入れ、 らに[C]蝦夷地の調査を命じ、その開発やロシア人との交易を計画した。意次の政策は、民間の経済活動を利用するなど新しい一面をもっていたが、賄賂の横行や武士の気風の退廃などへの批判も強まった。そのような中、1783（天明3）年には  の大噴火があり、数年におよぶ大凶作が続き、東北地方を中心に多数の餓死者を出した。各地で百姓一揆や打ちこわしが発生し、意次の勢力は急速に衰え、将軍家治が死去すると老中を罷免されることとなった。

問1 下線部 [A] に関連して、8代将軍徳川吉宗の政策について述べた次の文 X・Y について、その正誤の組み合わせとして正しいものを、下の ①～④のうちから一つ選べ。解答欄は

X 吉宗は、定免法を広く取り入れ、年貢率の引上げをはかった。

Y 吉宗は、農民から持ち高の1割を臨時に納入させる上げ米を実施した。

- |       |     |       |     |
|-------|-----|-------|-----|
| ① X 正 | Y 正 | ② X 正 | Y 誤 |
| ③ X 誤 | Y 正 | ④ X 誤 | Y 誤 |

問2 下線部 [B] に関連して、田沼意次の政策について述べた次の文 X・Y について、その正誤の組み合わせとして正しいものを、下の ①～④のうちから一つ選べ。解答欄は

X 商人・職人の同業者でつくる株仲間を広く公認し、運上や冥加などによる増収をはかった。

Y 商人の資本によって印旛沼・手賀沼の大規模な干拓工事を進めた。

- ① X 正 Y 正                      ② X 正 Y 誤  
③ X 誤 Y 正                      ④ X 誤 Y 誤

問3 下線部 [C] に関連して、江戸時代の蝦夷地について述べた次の文 X・Y について、その正誤の組み合わせとして正しいものを、下の ①～④のうちから一つ選べ。解答欄は

X 蝦夷地の交易は、松前藩が家臣に特定の場所でのアイヌとの交易権をあたえるやり方から、本州の商人に請け負わせる体制に変わっていった。

Y 蝦夷地の北方の島々に関しては、田沼意次の時代に樺太・千島交換条約が結ばれた。

- ① X 正 Y 正                      ② X 正 Y 誤  
③ X 誤 Y 正                      ④ X 誤 Y 誤

問4 空欄  ・  に入る語句の組み合わせとして正しいものを、次の ①～④のうちから一つ選べ。解答欄は

- ① a 干鰯      b 工藤平助                      ② a 干鰯      b 新井白石  
③ a 俵物      b 工藤平助                      ④ a 俵物      b 新井白石

問5 空欄  ・  に入る語句の組み合わせとして正しいものを、次の ①～④のうちから一つ選べ。解答欄は

- ① c 最上徳内      d 浅間山                      ② c 最上徳内      d 富士山  
③ c 間宮林蔵      d 浅間山                      ④ c 間宮林蔵      d 富士山

(Ⅱ) 田沼意次が失脚したのち、11代将軍徳川家斉の補佐として老中になったのが、白河藩主松平定信であった。定信は、寛政の改革にのり出し、災害や飢饉によって荒廃した農村の復興をめざし、[D]農業人口の確保や飢饉の備えなどへの対策をおこなった。江戸市中でも、町々に町費節約を命じ、節約分の7割を積み立て、災害や飢饉に備えさせた。さらに、江戸の石川島に  を設け、無宿人を強制的に収容して技術習得などをはかり、職業をもたせようと試みた。一方、困窮した旗本・御家人を救済するため  を出して、札差に貸金を放棄させるとともに、旗本らに学問や武芸を奨励し、[E]寛政異学の禁を発した。これらの改革は一時的に幕政を引き締め、幕府の権威を高めたかにみえたが、[F]厳しい統制や儉約令は民衆の不評をかい、朝廷との問題である尊号一件などをめぐって将軍家斉と対立したこともあって、定信は老中在職6年余りで退陣した。この頃には、[G]財政再建のため特産物生産の奨励や専売制度の推進、人材育成・登用をめざした藩校の設立などによって大きな成果をあげる藩もあらわれ、改革を主導した藩主は名君と称された。

問6 下線部 [D] に関連して、松平定信の農村政策・社会政策について述べた次の文 X・Y について、その正誤の組み合わせとして正しいものを、下の ①～④ のうちから一つ選べ。解答欄は

X 江戸に流入していたすべての農村出身者を強制的に故郷に帰らせる、人返しの法を定めた。

Y 各地に社倉・義倉を設け、飢饉に備えるために米穀を供出させて蓄えさせた。

- |       |     |       |     |
|-------|-----|-------|-----|
| ① X 正 | Y 正 | ② X 正 | Y 誤 |
| ③ X 誤 | Y 正 | ④ X 誤 | Y 誤 |

問7 空欄  ・  に入る語句の組み合わせとして正しいものを、次の

①～④ のうちから一つ選べ。解答欄は

- |          |       |          |         |
|----------|-------|----------|---------|
| ① e 人足寄場 | f 棄捐令 | ② e 人足寄場 | f 相对済し令 |
| ③ e 養生所  | f 棄捐令 | ④ e 養生所  | f 相对済し令 |

問8 下線部〔E〕に関連して、松平定信の文教政策について述べた次の文X・Yについて、その正誤の組み合わせとして正しいものを、下の①～④のうちから一つ選べ。解答欄は

X 定信は、新たに湯島聖堂を設置して、中江藤樹を大学頭に任じた。

Y 定信は、幕府の学問所において朱子学以外の学問を講じることを禁じた。

- ① X 正 Y 正                      ② X 正 Y 誤  
③ X 誤 Y 正                      ④ X 誤 Y 誤

問9 下線部〔F〕に関連して、風俗の取り締まりを強化した定信によって、遊里での遊びをえがく洒落本も摘発されたが、洒落本の代表的作者として正しい人物を、次の①～④のうちから一つ選べ。解答欄は

- ① 喜多川歌麿      ② 杉田玄白      ③ 山東京伝      ④ 小林一茶

問10 下線部〔G〕に関連して、改革を主導して名君と称された米沢藩の藩主として正しい人物を、次の①～④のうちから一つ選べ。解答欄は

- ① 島津齐彬      ② 鍋島直正      ③ 細川重賢      ④ 上杉治憲

第4問 歴史総合の授業で、「第一次世界大戦時代の世界」という主題を設定し、生徒が探究した。これらの活動に関して述べた次の（Ⅰ）と（Ⅱ）の文章を読み、下の問い（問1～12）に答えよ。なお、解答は各問いの下にある選択肢から一つ選べ。解答欄は  ～

（Ⅰ）最初の授業で、小園君は第一次世界大戦の経過に関して、その概略をまとめて次のように発表しました。

私の調べたところ、まず、1914年6月に、ボスニア・ヘルツェゴヴィナの中心地サライエヴォで、[A]オーストリアの帝位継承者夫妻が、セルビア人の青年に殺害されました。これはサライエヴォ事件と呼ばれ、[B]三国協商を中心とする諸国（連合国）と、ドイツやオーストリアを中心とする諸国（同盟国）との間での世界大戦に発展しました。

この大戦は、当初は年内で終結するとみられていましたが、戦線が膠着して長期化し、兵士以外の国民が[C]兵器の生産に動員されるなど国力のすべてを費やす総力戦となりました。また、[D]植民地の人びとや先祖の郷土から離れている人びとも、戦後の自治や独立・建国を期待して協力しました。

1918年11月、ドイツの敗北によって、4年余り続いた大戦は終結しましたが、その間に、戦局を大きく転換させたのは、1917年のアメリカの参戦と[E]ロシア革命だったと言われています。

問1 下線部 [A] の原因として正しいものを、次の①～④のうちから一つ選べ。解答欄は

- ① パン＝スラヴ主義を主張するオーストリアが、ボスニア・ヘルツェゴヴィナを併合した。
- ② パン＝スラヴ主義を主張するセルビアが、ボスニア・ヘルツェゴヴィナを併合した。
- ③ パン＝ゲルマン主義を主張するオーストリアが、ボスニア・ヘルツェゴヴィナを併合した。
- ④ パン＝ゲルマン主義を主張するセルビアが、ボスニア・ヘルツェゴヴィナを併合した。

問2 下線部 [B] の3国の組み合わせとして正しいものを、次の①～④のうちから一つ選べ。解答欄は

- ① イギリス・セルビア・フランス
- ② イギリス・フランス・イタリア
- ③ イギリス・ロシア・フランス
- ④ イギリス・ロシア・イタリア

問3 下線部 [C] に関連して、第一次世界大戦において初めて実戦で使用された「新兵器」として誤っているものを、次の①～④のうちから一つ選べ。解答欄は

- ① 飛行機
- ② 潜水艦
- ③ 戦車
- ④ 機関銃

問4 下線部 [D] に関連して、イギリスがおこなったこととして正しいものを、次の①～③のうちから一つ選べ。解答欄は

- ① ユダヤ人の金融資本家から戦費を調達するため、パレスチナにおけるユダヤ人の民族的郷土の建設を約束した。
- ② トルコ人の軍事的協力を得るため、バルカン半島のトルコ人居住区の戦後の独立を認めることを約束した。
- ③ インド人の軍事・経済的協力を得るため、戦後に完全独立を認めることを約束した。

問5 下線部 [E] に関連して、ロシア革命を指導したレーニンがおこなったこととして誤っているものを、次の①～③のうちから一つ選べ。

解答欄は

- ① ソヴィエト臨時政府との二重権力状態を打破するため、「すべての権力をソヴィエトへ」という「四月テーゼ」を發表した。
- ② 選挙の結果、社会革命党（エスエル）が第一党となった憲法制定議会を武力で解散し、ボリシェヴィキの一方独裁を実現した。
- ③ 「平和に関する布告」を發表すると同時に、全交戦国と講和条約を結び、第一次世界大戦から離脱した。

(Ⅱ) 次の授業では、森下さんが第一次世界大戦と日本との関係について探究したことを発表しました。

私の調べたところ、まず、日本は、イギリスとの同盟を名目としてドイツに宣戦を布告して、この世界大戦に参加しました。日本は、1914年10月にはドイツが領有していた赤道以北の南洋諸島を占領し、続いて、ドイツの租借地となっていた中国の [ a ] 省にある青島などを占領しました。さらに、翌年1月には、中国の [ b ] 政府に対して旧ドイツ権益の継承と、[F]旅順・大連の租借および南満洲鉄道の利権の期限を99カ年延長することなどを含む二十一カ条の要求を提出すると、中国政府はその大部分を受諾しました。

大戦中、ヨーロッパでは経済が停滞しましたが、日本はアジア・アメリカ向けの輸出が増え、貿易収支は大幅な黒字となりました。鉄鋼や [ c ] の製造を中心とする重工業が大きく発展し、「大戦景気」が出現しました。一方で、ロシアで旧地主や軍人たちが反革命の動きを各地で起こすと、社会主義の影響を恐れた欧米列強が干渉戦争にのりだしましたが、日本もこれに乗じて [ d ] に大軍を出兵させ、バイカル湖付近まで進出しました。

大戦終結後、膨大な数の犠牲者と軍事支出への反省から、[G]国際協調と不戦への取り組みと、軍備の縮小がはかられました。日本は、1921～22年にアメリカの提唱で開かれた[H]ワシントン会議に参加し、海軍軍縮条約、四カ国条約および九カ国条約を結びました。

問6 空欄 [ a ] に入る語句として正しいものを、次の①～④のうちから一つ選べ。解答欄は [ 力 ]

- ① 福建                      ② 山東                      ③ 四川                      ④ 広東

問7 空欄 [ b ] に入る人物として正しいものを、次の①～④のうちから一つ選べ。解答欄は [ キ ]

- ① 孫文                      ② 毛沢東                      ③ 周恩来                      ④ 袁世凱

問8 下線部 [F] に関連して、この内容が認められた講和条約が結ばれた戦争として正しいものを、次の①～④のうちから一つ選べ。解答欄は

- ① 日露戦争      ② 義和団戦争      ③ 日清戦争      ④ アロー戦争

問9 空欄  に入る語句として正しいものを、次の①～④のうちから一つ選べ。解答欄は

- ① 自動車      ② 家庭電化製品      ③ 化学繊維      ④ 船舶

問10 空欄  に入る語句として正しいものを、次の①～④のうちから一つ選べ。解答欄は

- ① シベリア      ② アラスカ      ③ クリミア      ④ サハリン

問11 下線部 [G] に関連して、ドイツと周囲の国との国境の維持と領土の不可侵などを約束した条約として正しいものを、次の①～④のうちから一つ選べ。解答欄は

- ① ウィーン条約      ② ロカルノ条約  
③ ベルリン条約      ④ ヴェルサイユ条約

問12 下線部 [H] に関連して、これらの条約の内容として誤っているものを、次の①～③のうちから一つ選べ。解答欄は

- ① 四カ国条約は、太平洋地域の現状維持と日英同盟の強化を定めたものである。  
② 九カ国条約は、中国の主権尊重と門戸開放、機会均等を約束したものである。  
③ 海軍軍縮条約は、英・米・日・仏・伊の五か国の主力艦の保有量を定めて制限したものである。

[歴史総合・日本史探究の問題は以上です。]

# 令和8年度 歴史総合・世界史探究入試問題 (1日目)

第1問 次の古代ローマの歴史についての文章を読み、文章中の空欄【ア】～【ク】にあてはまる語句を、それぞれ下の①～③のうちから一つずつ選べ。解答欄は、～。また、下線部[A]～[D]について、後の問1～問4に答えよ。

都市国家ローマは、イタリア半島中部のティベル川下流のほとりに定住した【ア】人の一派によって建設された。その後、前6世紀末、ローマの人びとは王を追放して共和政を樹立した。

ローマでは、貴族と平民の間で身分差があり、共和政の初期には、執政官である【イ】や元老院の議員を独占していた貴族がローマの政治の実権を握っていた。しかし、ローマがイタリア半島を統一する過程で、[A]平民が政治的な発言権を要求するようになる。この結果、前5世紀には平民を守る護民官や平民だけの議会である平民会が設置された。貴族と平民が法的に平等となったのは、[B]前287年にホルテンシウスが制定した法律による。

ローマは、イタリア半島の統一に成功すると海外進出をめざし、当時、西地中海の商業圏を支配していた[C]カルタゴとの3回にわたる戦争に勝利した。その後、ローマは、東地中海へも進出し、次々と征服地を獲得して総督や徴税請負人を派遣し、属州として支配した。一方、中小農民の多くは、長く続いた戦争に参加したために農地が荒廃し、また属州から安価な【ウ】が流入したことで没落し、その土地を富裕者が買い集めた。没落した中小農民は無産市民となり、都市で暮らすようになったが、有力な政治家や軍人が彼らを私兵として用いて互いに抗争し、「内乱の1世紀」と呼ばれる状況が生じた。

「内乱の1世紀」の終盤には、三頭政治が出現した。その中でカエサルは、ライバルの【エ】を破って台頭し、終身独裁官に就任したが暗殺された。その後、前31年に、カエサルの養子オクタウィアヌスが、カエサルの部下であった

アントニウスを【オ】の海戦で破り、地中海世界を統一した。オクタウィアヌスは、自ら「市民の中の第一人者」と称したが、元老院から尊厳者を意味する【カ】の称号を受け、事実上の帝政をはじめた（ローマ帝国の成立）。

1世紀初め、ローマ帝国の支配に苦しむパレスチナの人びとの間では、メシア（救世主）の出現への期待が高まっていた。その中で登場したイエスは、ただ律法を守ることを人びとに求めた【キ】教の形式主義を批判し、パレスチナの人びとに神の王国が到来するという福音を説いた。これに反感を持った【キ】教の指導者がイエスをローマへの反逆者としてローマ帝国の総督ピラトに訴え、イエスは十字架にかけられた。しかし、イエスの復活を信じる人びとの間でイエスを救世主（キリスト）とする信仰が生まれ、ペテロやパウロらの使徒によってイエスの教えがローマ帝国内の各地に伝えられた。ローマ帝国では、[D] 3世紀以降、キリスト教徒は反社会集団として迫害を受けたが、次第に信徒の数が増し、313年にはミラノ勅令によって公認され、392年にローマ皇帝【ク】によって、国教として認められた。

- |   |            |           |             |
|---|------------|-----------|-------------|
| ア | ① ギリシア     | ② ゲルマン    | ③ ラテン       |
| イ | ① コンスル     | ② パトリキ    | ③ プレブス      |
| ウ | ① かんきつ類    | ② 綿花      | ③ 穀物        |
| エ | ① ポンペイウス   | ② スパルタクス  | ③ グラックス     |
| オ | ① サラミス     | ② プレヴェザ   | ③ アクティウム    |
| カ | ① プリンキパトゥス | ② アウグストゥス | ③ ドミナトゥス    |
| キ | ① バラモン     | ② ユダヤ     | ③ ゴロアスター    |
| ク | ① テオドシウス   | ② トラヤヌス   | ③ コンスタンティヌス |

問1 下線部 [A] について、貴族に対して平民が政治的発言権を要求した理由として正しいものを、次の①～③のうちから一つ選べ。

解答欄は、**ケ**

- ① 貴族より多額の税を納めるようになったため
- ② 重装歩兵として国防の主力となったため
- ③ 貴族の政治的な不正行為が増えたため

問2 下線部 [B] について、その内容として正しいものを、次の①～③のうちから一つ選べ。解答欄は、

- ① 従来の慣習法を明文化し、すべての人々を知ることができるものとする。
- ② 2名の執政官のうち1名を平民から選出するものとする。
- ③ 平民会での決議を元老院の認可なしに全ローマ人の国法とする。

問3 下線部 [C] について、次の間に答えよ。

(1) カルタゴは北アフリカにあった植民市であるが、この都市を建設した民族として正しいものを、次の①～③のうちから一つ選べ。

解答欄は、

- ① アラム人      ② ヘブライ人      ③ フェニキア人
- (2) 3回の戦いのうちの第2回の戦いで、カルタゴ軍を率いてローマ軍を苦しめた将軍として正しいものを、次の①～③のうちから一つ選べ。

解答欄は、

- ① スキピオ      ② ハンニバル      ③ マリウス

問4 下線部 [D] について、キリスト教徒が迫害を受けた理由として誤っているものを、次の①～③のうちから一つ選べ。解答欄は、

- ① ローマ神話に登場する神々の祭りへの参加を拒否したため
- ② ローマ皇帝を神として崇拝することを拒否したため
- ③ ローマ帝国の軍隊に入隊することを拒否したため

## 第2問 次の明・清についての文章を読み、後の問1～問13に答えよ。

14世紀中ごろに内紛や経済の混乱で衰退していた元は、【 A 】の乱を契機にモンゴル高原に退いた。この乱に参加した貧農出身の【 B 】は、1368年に長江流域の都市である南京で皇帝に即位して、明を建国した。彼は【 C 】内政面で皇帝権力を強化した。【 D 】の役によって15世紀初めに即位した永楽帝は、皇帝の職務を補佐する内閣大学士の設置、大運河の修復ならびに北京への遷都を実施した。さらに、自らモンゴル高原への大遠征を行うとともに、南海諸国に朝貢を促す目的で、【 E 】大規模な船団をインド洋から東アフリカ沿岸にかけて6回派遣した。しかし、北方の防備や船団派遣に多額の支出を必要とした明は、宣徳帝時代の7回目の派遣以後の船団派遣を中止した。

明では各種の商品が生産されており、これらの商品を必要とした【 F 】周辺諸国との交易活動が活発になった。16世紀から17世紀にかけての明は、一時的な建て直しもあったが、北方のモンゴル諸集団や【 G 】海賊の侵入によって次第に国力が衰えていった。その後政治的混乱や重税と飢饉により華北一帯で反乱が生じると、【 H 】年に李自成が率いる反乱軍に首都を占領されて【 I 】明は滅亡した。

すでに16世紀末に中国東北地方の女真族を統一していた【 J 】は、17世紀初めに後金を建国した。その後後金は国号を清と改め、李自成の軍を破って北京を占領し、そこに遷都して中国全土を支配した。征服王朝である清は明の諸制度を継承するとともに、【 K 】中国の学問を尊重した。清は【 L 】康熙・雍正・乾隆と三代続く有能な皇帝の下で最盛期を迎え、乾隆帝の治世下でその版図も最大になった。清の特産物や手工業製品を求めるアジア各地や【 M 】ヨーロッパとの間で交易も行われた。このように政治的に安定し、経済的・文化的にも発展していた清は、まさに東アジアの国際秩序の中心であった。

問1 空欄【 A 】にあてはまる語句として正しいものを、次の①～④のうちから一つ選べ。解答欄は、

ア
---

- ① 黄巾      ② 紅巾      ③ 黄巢      ④ 赤眉

問2 空欄【 B 】にあてはまる人名として正しいものを、次の①～④のうちから一つ選べ。解答欄は、

- ① 趙匡胤      ② 朱全忠      ③ 李世民      ④ 朱元璋

問3 下線部 [C] について、この皇帝の政策として誤っているものを、次の①～④のうちから一つ選べ。解答欄は、

- ① 中書省を廃止して皇帝に権力を集中させた。  
② 土地台帳と租税台帳を作成し、税の一部を農民に還付した。  
③ 村落組織である里甲制を定めて、徴税と治安維持を担当させた。  
④ 朱子学を官学として科挙を整備し、明律・明令を制定した。

問4 空欄【 D 】にあてはまる語句として正しいものを、次の①～④のうちから一つ選べ。解答欄は、

- ① 靖難      ② 安史      ③ 靖康      ④ 陳勝・呉広

問5 下線部 [E] について、永楽帝が派遣した船団を指揮した宦官として正しいものを、次の①～④のうちから一つ選べ。解答欄は、

- ① 楊堅      ② 岳飛      ③ 鄭和      ④ 李成桂

問6 下線部 [F] について、次の問に答えよ。

(1) この交易活動により中国に大量に流入したものとして正しいものを、次の①～④のうちから一つ選べ。解答欄は、

- ① 琥珀      ② 羊      ③ 銀      ④ 石油

(2) 中山王によって統一され、明との朝貢貿易で得た物資を用いた中継貿易により繁栄した国として正しいものを、次の①～④のうちから一つ選べ。

解答欄は、

- ① 黎朝      ② 扶南      ③ 渤海      ④ 琉球

問7 下線部 [G] について、この時期に中国東南沿岸を襲った海賊・私貿易集団として正しいものを、次の①～④のうちから一つ選べ。

解答欄は、

- ① 黒旗軍      ② 倭寇      ③ 常勝軍      ④ 郷勇

問8 空欄【 H 】にあてはまる年号として正しいものを、次の①～④のうちから一つ選べ。解答欄は、

- ① 1616      ② 1624      ③ 1636      ④ 1644

問9 下線部 [I] について、明の滅亡後に大陸から台湾に拠点を移し、清に対する抵抗活動を実施した武将として正しいものを、次の①～④のうちから一つ選べ。解答欄は、

- ① 呉三桂      ② 李舜臣      ③ 鄭成功      ④ 司馬炎

問10 空欄【 J 】にあてはまる人名として正しいものを、次の①～④のうちから一つ選べ。解答欄は、

- ① ホンタイジ      ② フビライ      ③ ヌルハチ      ④ オゴデイ

問11 下線部 [K] について、清の国家事業の形で編纂された書籍として誤っているものを、次の①～④のうちから一つ選べ。解答欄は、

- ① 『康熙字典』      ② 『古今圖書集成』  
③ 『資治通鑑』      ④ 『四庫全書』

問12 下線部 [L] について、康熙帝が黒竜江沿いを南下するロシアとの国境を画定した条約として正しいものを、次の①～④のうちから一つ選べ。

解答欄は、

- ① ネルチンスク条約      ② アイゲン条約  
③ トルコマンチャーイ条約      ④ キャフタ条約

問13 下線部 [M] について、次の問に答えよ。

(1) 乾隆帝によってヨーロッパ船の来航が唯一認められた港として正しいものを、次の①～④のうちから一つ選べ。解答欄は、

① 厦門      ② 広州      ③ 寧波      ④ 泉州

(2) (1)の港で取引を任せられた商人組合として正しいものを、次の①～④のうちから一つ選べ。解答欄は、

① 作      ② 会館      ③ 公行      ④ 公所



問2 下線部 [B] について、次の問に答えよ。

(1) この航海を行った探検家として正しいものを、次の①～④のうちから一つ選べ。解答欄は、

- ① 「航海王子」エンリケ                      ② コロンブス  
③ ヴァスコ＝ダ＝ガマ                      ④ カブラル

(2) この探検家を援助したスペイン女王として正しいものを、次の①～④のうちから一つ選べ。解答欄は、

- ① マリア＝テレジア                      ② ヴィクトリア  
③ マリ＝アントワネット                      ④ イサベル

問3 空欄【 C 】にあてはまる人名として正しいものを、次の①～④のうちから一つ選べ。解答欄は、

- ① カボット                      ② マゼラン (マガリャンイス)  
③ カルティエ                      ④ バルトロメウ＝ディアス

[II]

16世紀前半以降[D] アメリカ大陸でのスペインによる植民地化が進展した。他方で、スペインを含むヨーロッパでは、アメリカ大陸やアジアとの接触によって[E] 経済面や生活面で大きな変化が生じた。スペインは、後に[F] 神聖ローマ皇帝カール5世としても即位したカルロス1世の治世下で西ヨーロッパの約半分を統治し、[G] その子フェリペ2世の治世下で世界各地に植民地を有する帝国すなわち「太陽の沈まぬ帝国」を形成した。

問4 下線部 [D] について、次の問に答えよ。

(1) アステカ王国で使われたものとして正しいものを、次の①～④のうちから一つ選べ。解答欄は、

- ① 鉄器                      ② 馬                      ③ 暦                      ④ 車輪

(2) アステカ王国を滅ぼしたスペイン人として正しいものを、次の①～④のうちから一つ選べ。解答欄は、

- ① イダルゴ                      ② ピサロ                      ③ コルテス                      ④ ラス＝カサス

(3) スペインのアメリカ大陸での植民地支配についての説明として誤っているものを、次の①～④のうちから一つ選べ。解答欄は、

- ① キリスト教布教の義務と引き換えにコンキスタドール（征服者）に先住民の使役を認めるエンコミエンダ制が実施された。
- ② コンキスタドールは先住民を鉱山や農園で酷使したため、ヨーロッパからもたらされた疫病の流行とも相まって、先住民の人口は激減した。
- ③ 先住民の代わりにアフリカから多くの黒人奴隷が労働力としてカリブ海域やアメリカ大陸へ運び込まれた。
- ④ 戦争捕虜である奴隷を多数使ったラティフンディア（大土地所有制）から小作人を使用するコロナトゥス（小作制）へ次第に移行した。

問5 下線部 [E] について、ヨーロッパでの物価高騰の一因となった銀を産出した、当時世界最大の銀鉱山が存在した都市として正しいものを、次の

①～④のうちから一つ選べ。解答欄は、

- ① ポトシ
- ② クスコ
- ③ アカプルコ
- ④ テノチティトラン

問6 下線部 [F] について、カール5世の治世の出来事として誤っているものを、次の①～④のうちから一つ選べ。解答欄は、

- ① アウクスブルクの和議
- ② レパントの海戦
- ③ 第1次ウィーン包囲
- ④ イタリア戦争

問7 下線部 [G] について、次の問に答えよ。

- (1) 下線部 [G] に関連して述べた次の文XとYについて、その正誤の組み合わせとして正しいものを、下の①～④のうちから一つ選べ。

解答欄は、

X ネーデルラントヘカトリックを強制したことにより同地方の独立戦争を誘発した結果、スペインは商業・海運が盛んな南部10州を喪失した。

Y スペインはオランダ独立を支援するイギリスを牽制するために無敵艦隊を派遣したが、イギリス海軍に敗北した。

- ① X 正 Y 正                      ② X 正 Y 誤  
③ X 誤 Y 正                      ④ X 誤 Y 誤

- (2) スペインがガレオン船を利用した交易ルートのアジア側の拠点とした場所として正しいものを、次の①～④のうちから一つ選べ。

解答欄は、

- ① ゴア                      ② マニラ                      ③ アユタヤ                      ④ マカオ

**第4問** 歴史総合の授業で、「第一次世界大戦時代の世界」という主題を設定し、生徒が探究した。これらの活動について述べた次の〔I〕・〔II〕の文章を読み、後の問1～問12に答えよ。

〔I〕最初の授業で、小園君は第一次世界大戦の経過に関して、その概略をまとめて次のように発表しました。

私の調べたところ、まず、1914年6月に、ボスニア・ヘルツェゴヴィナの中心地サライエヴォで、〔A〕オーストリアの帝位継承者夫妻が、セルビア人の青年に殺害されました。これはサライエヴォ事件と呼ばれ、〔B〕三国協商を中心とする諸国（連合国）と、ドイツやオーストリアを中心とする諸国（同盟国）との間での世界大戦に発展しました。

この大戦は、当初は年内で終結するとみられていましたが、戦線が膠着して長期化し、兵士以外の国民が〔C〕兵器の生産に動員されるなど国力のすべてを費やす総力戦となりました。また、〔D〕植民地の人びとや先祖の郷土から離れている人びとも、戦後の自治や独立、建国を期待して協力しました。

1918年11月、ドイツの敗北によって、4年余り続いた大戦は終結しましたが、その間に、戦局を大きく転換させたのは、1917年のアメリカの参戦と〔E〕ロシア革命だったと言われています。

問1 下線部〔A〕の原因として正しいものを、次の①～④のうちから一つ選べ。解答欄は、

- ① パン＝スラヴ主義を主張するオーストリアが、ボスニア・ヘルツェゴヴィナを併合した。
- ② パン＝スラヴ主義を主張するセルビアが、ボスニア・ヘルツェゴヴィナを併合した。
- ③ パン＝ゲルマン主義を主張するオーストリアが、ボスニア・ヘルツェゴヴィナを併合した。
- ④ パン＝ゲルマン主義を主張するセルビアが、ボスニア・ヘルツェゴヴィナを併合した。

問2 下線部 [B] の3国の組み合わせとして正しいものを、次の①～④のうちから一つ選べ。解答欄は、

- ① イギリス・セルビア・フランス
- ② イギリス・フランス・イタリア
- ③ イギリス・ロシア・フランス
- ④ イギリス・ロシア・イタリア

問3 下線部 [C] について、第一次世界大戦において初めて実戦で使用された「新兵器」として誤っているものを、次の①～④のうちから一つ選べ。解答欄は、

- ① 飛行機
- ② 潜水艦
- ③ 戦車
- ④ 機関銃

問4 下線部 [D] について、イギリスが行ったこととして正しいものを、次の①～③のうちから一つ選べ。解答欄は、

- ① ユダヤ人の金融資本家から戦費を調達するため、パレスチナにおけるユダヤ人の民族的郷土の建設を約束した。
- ② トルコ人の軍事的協力を得るため、バルカン半島のトルコ人居住区の戦後の独立を認めることを約束した。
- ③ インド人の軍事・経済的協力を得るため、戦後に完全独立を認めることを約束した。

問5 下線部 [E] について、ロシア革命を指導したレーニンが行ったこととして誤っているものを、次の①～③のうちから一つ選べ。解答欄は、

- ① ソヴィエトと臨時政府との二重権力状態を打破するため、「すべての権力をソヴィエトへ」という「四月テーゼ」を発表した。
- ② 選挙の結果、社会革命党（エスエル）が第一党となった憲法制定議会を武力で解散し、ボリシェヴィキの単党独裁を実現した。
- ③ 「平和に関する布告」を発表すると同時に、全交戦国と講和条約を結び、第一次世界大戦から離脱した。

[Ⅱ] 次の授業では、森下さんが第一次世界大戦と日本との関係について探究したことを発表しました。

私の調べたところ、まず、日本は、イギリスとの同盟を名目としてドイツに宣戦を布告して、この世界大戦に参加しました。日本は、1914年10月にはドイツが領有していた赤道以北の南洋諸島を占領し、続いて、ドイツの租借地となっていた中国の【 F 】省にある青島などを占領しました。さらに、翌年1月には、中国の【 G 】政府に対して旧ドイツ権益の継承と、[H]旅順・大連の租借および南満洲鉄道の利権の期限を99カ年延長することなどを含む二十一カ条の要求を提出すると、中国政府はその大部分を受諾しました。

大戦中、ヨーロッパでは経済が停滞しましたが、日本はアジア・アメリカ向けの輸出が増え、貿易収支は大幅な黒字となりました。鉄鋼や【 I 】の製造を中心とする重工業が大きく発展し、「大戦景気」が出現しました。一方で、ロシアで旧地主や軍人たちが反革命の動きを各地で起こすと、社会主義の影響を恐れた欧米列強が干渉戦争にのりだしましたが、日本もこれに乗じて【 J 】に大軍を出兵させ、バイカル湖付近まで進出しました。

大戦終結後、膨大な数の犠牲者と軍事支出への反省から、[K]国際協調と不戦への取り組みと、軍備の縮小がはかられました。日本は、1921～22年にアメリカの提唱で開かれた[L]ワシントン会議に参加し、海軍軍縮条約、四カ国条約および九カ国条約を結びました。

問6 空欄【 F 】にあてはまる地名として正しいものを、次の①～④のうちから一つ選べ。解答欄は、

- ① 福建      ② 山東      ③ 四川      ④ 広東

問7 空欄【 G 】にあてはまる人名として正しいものを、次の①～④のうちから一つ選べ、解答欄は、

- ① 孫文      ② 毛沢東      ③ 周恩来      ④ 袁世凱

問8 下線部 [H] について、この内容を認めた講和条約が結ばれた戦争として正しいものを、次の①～④のうちから一つ選べ。解答欄は、

- ① 日露戦争      ② 義和団戦争      ③ 日清戦争      ④ アロー戦争

問9 空欄【 I 】にあてはまる語句として正しいものを、次の①～④のうちから一つ選べ。解答欄は、

- ① 自動車      ② 家庭電化製品      ③ 化学繊維      ④ 船舶

問10 空欄【 J 】にあてはまる地名として正しいものを、次の①～④のうちから一つ選べ。解答欄は、

- ① シベリア      ② アラスカ      ③ クリミア      ④ サハリン

問11 下線部 [K] について、ドイツと周囲の国との国境の維持と領土の不可侵などを約束した条約として正しいものを、次の①～④のうちから一つ選べ。

解答欄は、

- ① ウィーン条約      ② ロカルノ条約  
③ ベルリン条約      ④ ヴェルサイユ条約

問12 下線部 [L] について、これらの条約の内容として誤っているものを、次の①～③のうちから一つ選べ。解答欄は、

- ① 四カ国条約は、太平洋地域の現状維持と日英同盟の強化を定めたものである。  
② 九カ国条約は、中国の主権尊重と門戸開放、機会均等を約束したものである。  
③ 海軍軍縮条約は、英・米・日・仏・伊の5カ国の主力艦の保有量を定めて制限したものである。

[歴史総合・世界史探究の問題は以上です。]

# 令和8年度 地理総合・地理探究入試問題 (1日目)

第1問 日本列島とその周辺の自然環境と災害に関して、問1～問7に答えよ。

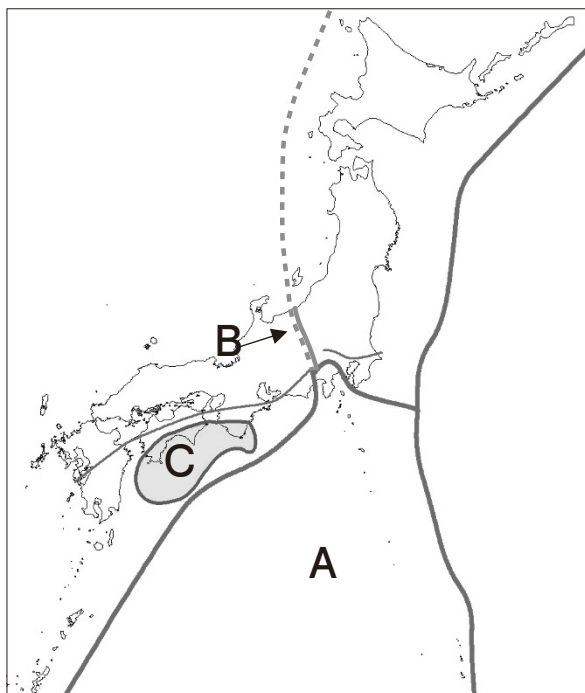


図1

問1 図1の地図上に描かれた線（実線・破線）は、日本列島とその周辺のプレートの境界や大きな断層帯を表したものである。このうち、Aのプレートの名称とBで示されている部分の名称について、その組み合わせとして適切なものを、表1の①～④の中から1つ選べ。解答欄は、ア。

表1（組み合わせ）

	①	②	③	④
A	太平洋プレート	太平洋プレート	フィリピン海プレート	フィリピン海プレート
B	フォッサマグナ西縁	中央構造線	フォッサマグナ西縁	中央構造線

問2 図1中のCの付近一帯について述べた文のうち、下線部が適切でないものを、次の①～④の中から1つ選べ。解答欄は、

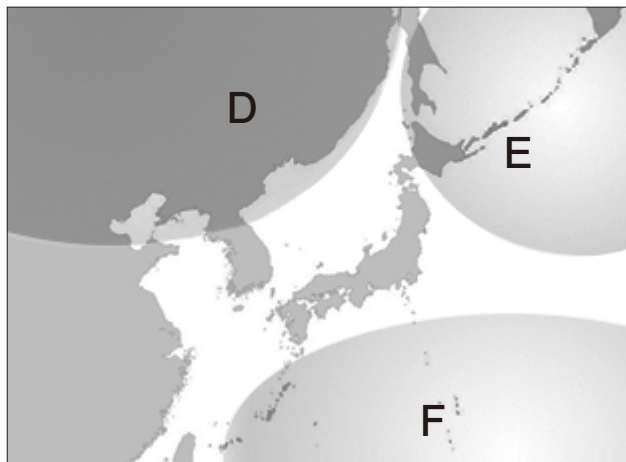
- ① この付近では過去400年の間に大きな地震が発生したことがないため、大きなひずみが蓄積されていると考えられている。
- ② この付近の南側は海洋側のプレートが大陸側のプレートの下に沈み込んだ凹地の海底地形である。
- ③ この付近では今後30年以内にM8～M9クラスの地震が発生する確率が60～90%程度以上と推定されており、巨大地震とそれによる津波被害が危惧されている。
- ④ この付近で発生すると推定される地震は、2011年の東北地方太平洋沖地震と同じ海溝型地震である。

問3 日本列島と同じようにプレートどうしが近づき合うせばまる境界にできている島として適切なものを、次の①～④の中から1つ選べ。

解答欄は、

- ① アイスランド島                      ② マダガスカル島
- ③ ニュージーランド北島            ④ ハワイ島

問4 図2中の  で示すD～Fは、日本付近の高気圧の配置を示した



ものである。これらの気団が現れる時期とその特徴の組み合わせとして適切なものを、表2の①～⑥の中から1つ選べ。解答欄は、

図2

表2 (組み合わせ)

	①	②	③	④	⑤	⑥
D	夏・温暖・ 湿潤	夏・温暖・ 湿潤	梅雨・寒冷・ 湿潤	梅雨・寒冷・ 湿潤	冬・寒冷・ 乾燥	冬・寒冷・ 乾燥
E	梅雨・寒冷・ 湿潤	冬・寒冷・ 乾燥	夏・温暖・ 湿潤	冬・寒冷・ 乾燥	夏・温暖・ 湿潤	梅雨・寒冷・ 湿潤
F	冬・寒冷・ 乾燥	梅雨・寒冷・ 湿潤	冬・寒冷・ 乾燥	夏・温暖・ 湿潤	梅雨・寒冷・ 湿潤	夏・温暖・ 湿潤

問5 次の(1)～(4)の各文章中の  G  ～  O  に入る語句の組み合わせとして適切なものを、表3～表6の①～④の中からそれぞれ1つ選べ。解答欄は、  ～ 。

(1) 日本を含む温暖湿潤地域の地形の大半は、河川の影響を強く受けている。起伏の大きな山地を下る急流河川は侵食力や運搬力が大きく、山地は河川によって深く刻まれ、 G  が形成される。一方、傾斜のゆるやかな下流域では、河川は蛇行し、洪水をきっかけに流路が変わることもある。洪水時に河川の氾濫によって形成される地形全体は氾濫原と呼ばれるが、 H  のような場所は、洪水や大雨の時に水が流れ込みやすい。

解答欄は、 。

表3 (組み合わせ)

	①	②	③	④
G	V字谷	V字谷	U字谷	U字谷
H	自然堤防	後背湿地	自然堤防	後背湿地

(2) 河川の氾濫には、洪水の際に河川の水が堤内地（堤防で守られている側）に流れ込む  I  氾濫と、堤内地に降った雨が河川に排水されずに低地に滞留し家屋などが浸水する  J  氾濫がある。地面が舗装され保水力が低下した都市部では、近年、 K  氾濫が頻発しており、道路の冠水や地下街の浸水などの被害が発生している。解答欄は、 。

表4 (組み合わせ)

	①	②	③	④
I	外水	外水	内水	内水
J	内水	内水	外水	外水
K	外水	内水	外水	内水

- (3) 人口が集中する都市では、都市気候と呼ばれる局地的で特殊な気候が見られる。都市では自動車やオフィスなどから大量の人工熱が排出されるとともに、地面はアスファルトなど熱を蓄える性質の人工構造物で覆われているため、都心部の気温が周辺地域より高くなる  L  現象が見られる。都心部で暖められた空気は上昇気流を強めて雲を発達させるため、局地的大雨である  M  の一因になっている。解答欄は、 キ。

表5 (組み合わせ)

	①	②	③	④
L	ヒートアイランド	ヒートアイランド	ドーナツ化	ドーナツ化
M	ゲリラ豪雨	スコール	ゲリラ豪雨	スコール

- (4) 近年の日本では、集中豪雨による被害が各地で増加している。 N  が同じ場所に次々と発生することで生じる線状降水帯は、狭い範囲に数時間に渡って強い降雨をもたらし、総雨量が数百mmに達することもある。また、数年に一度、太平洋東部の熱帯域で海面水温が高くなり、数か月間継続する  O  現象などの地球規模の現象を受けて、日本周辺でも天候不順や冷夏・暖冬といった異常気象が起こることもある。解答欄は、 ク。

表6 (組み合わせ)

	①	②	③	④
N	竜巻	竜巻	積乱雲	積乱雲
O	エルニーニョ	ラニーニャ	エルニーニョ	ラニーニャ

問6 日本における気象現象や気象災害について述べた文のうち、下線部が適切でないものを、次の①～④の中から1つ選べ。解答欄は、ケ。

- ① フェーン現象とは高温で湿潤な風が山を越える際、山の風上側に雨を降らせ、風下側に乾燥した高温の風が吹き降りる現象で、春に日本海を高気圧が発達しながら通過すると、日本海側に高温の南風が吹き込み、山沿いでは雪崩が発生することがある。
- ② 地吹雪とは降り積もった雪が強風によって吹き上げられる現象で、視界が白一色となるホワイトアウト現象を引き起こす原因となり、時には人命が奪われることもある。
- ③ やませとは夏に北日本の太平洋側に吹く北東風で、寒流の千島海流上を吹き渡ってくるため、冷涼で湿った風となり、低温と日照不足により農作物が不作となる冷害を引き起こすことがある。
- ④ 高潮とは気圧の低下や強風による吹き寄せにより海面が異常に高くなる現象で、台風の勢力が衰えないまま日本列島に接近・上陸する際に起こることが多く、沿岸部に甚大な被害をもたらすことがある。

問7 次の図3は様々な災害対策を模式化したものである。図中に記されている対策のうち、砂防ダム・液状化対策を施した埋立地・地下貯水池は主にどのような自然災害に備えたものか。その組み合わせとして適切なものを、表7の①～⑥の中から1つ選べ。解答欄は、。

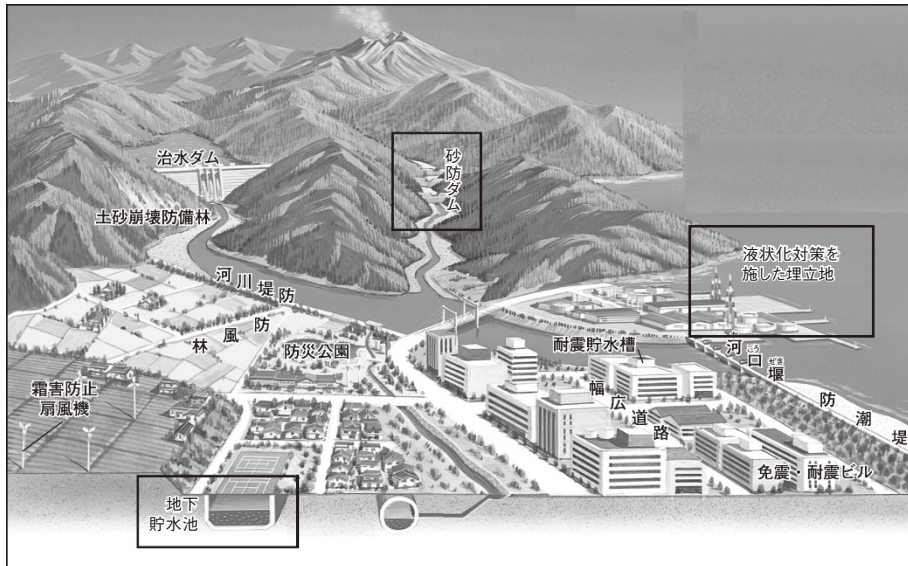


図3

表7 (組み合わせ)

	①	②	③	④	⑤	⑥
砂防ダム	地震	地震	洪水	洪水	土石流	土石流
液状化対策を施した埋立地	洪水	土石流	地震	土石流	地震	洪水
地下貯水池	土石流	洪水	土石流	地震	洪水	地震

第2問 第3次産業に関して、問1～問4に答えよ。

問1 日本の小売業について、(1)～(4)に答えよ。

(1) 図1は店舗の種類別販売額の推移を示したものである。図1中のA～Cの線と、店舗種別である大型スーパー・コンビニエンスストア・百貨店の組み合わせとして適切なものを、表1の①～⑥の中から1つ選べ。

解答欄は、。

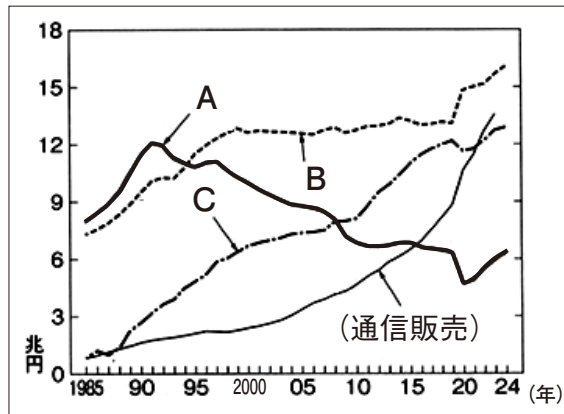


図1 店舗の種類別販売額の推移

矢野恒太記念会『日本国勢図会 2025/26』より。

表1 (組み合わせ)

	①	②	③	④	⑤	⑥
A	大型スーパー	大型スーパー	コンビニエンスストア	コンビニエンスストア	百貨店	百貨店
B	コンビニエンスストア	百貨店	大型スーパー	百貨店	大型スーパー	コンビニエンスストア
C	百貨店	コンビニエンスストア	百貨店	大型スーパー	コンビニエンスストア	大型スーパー

(2) 図1中の(通信販売)の販売額は、引用元ではA～Cの店舗の販売額に含むとされている。A～Cの販売額に通常含まれない商取引の形態を、次の①～④の中から1つ選べ。解答欄は、

- ① カタログショッピング
- ② 定期販売(サブスクリプション)
- ③ フリーマーケットアプリ
- ④ オンラインショッピング

(3) 通信販売の業態において、近年最も重要度の増した設備として適切なものを、次の①～④の中から1つ選べ。解答欄は、



① アーケード商店街



② コンテンツ制作設備



③ 自動化された物流倉庫



④ 付設の大型駐車場

(4) 図2のように、地方都市の商店街には営業を縮小したり撤退したりし



図2 地方都市の商店街

てシャッターの降りた店舗が多く見られるようになった。この現象の原因と関係がないものを、次の①～④の中から1つ選べ。解答欄は、。

- ① 車社会化による消費行動の変化
- ② 郊外ショッピングセンターの発展
- ③ 少子高齢化による来店客の減少
- ④ 車社会化によるカーシェアリングの増加

問2 次の表2は、日本の小売業の業態別年間商品販売額について、商業集積地区（駅周辺型・住宅地背景型・ロードサイド型の3つに細分）・オフィス街地区・住宅地区別に販売額の構成比を示したものである。この表と小売業の立地に関する（1）～（3）に答えよ。

表2 百貨店・総合スーパー・コンビニエンスストアの立地分類別年間商品販売額の構成比（％、2014年）

	商業集積地区			オフィス街地区	F
	D	住宅地背景型	E		
百貨店	58.4	2.8	1.6	6.4	-
総合スーパー	22.7	14.6	27.4	4.7	6.4
コンビニエンスストア	11.7	6.5	1.8	13.8	30.4

数値は、二宮書店『データブック・オブ・ザ・ワールド2025』による。

(1) 空欄D～Fには「駅周辺型（商業集積地区）」・「住宅地区」・「ロードサイド型（商業集積地区）」の3種類が当てはまる。次のD～Fについての説明文を読んで、これらが該当する立地の種類として適切なものを、表3の①～⑥の中から1つ選べ。解答欄は、。

[立地種類の説明文]

D	住宅地から都心に向かう鉄道通勤の人口が多い都市郊外では、市街地の発達はこの地区を中心に進んだ。再開発では密集した商店街を整理する例が多い。
E	週末などにまとめて大量購入をする消費者の購買行動に即して発達した立地形態。商圏は広く、大規模な駐車場を備えることが多い。
F	現在の多様な生活様式に対応して、少量多品種の品揃えや物品の販売に限らず様々な機能を備えた業態で、小さな店舗面積での立地に適している。

表3 (組み合わせ)

	①	②	③	④	⑤	⑥
D	駅周辺型	駅周辺型	住宅地区	住宅地区	ロードサイド型	ロードサイド型
E	住宅地区	ロードサイド型	駅周辺型	ロードサイド型	駅周辺型	住宅地区
F	ロードサイド型	住宅地区	ロードサイド型	駅周辺型	住宅地区	駅周辺型

(2) 図3は大都市郊外の通勤圏にあるベッドタウンを想定した模式図である。

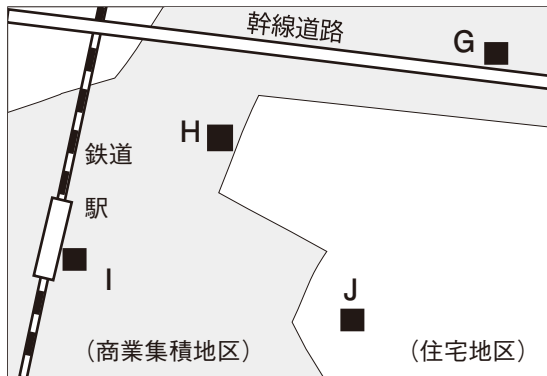


図3

この地域にある店舗の立地地点G～Jについて、表2で示す、駅周辺型（商業集積地区）・住宅地背景型（同）・ロードサイド型（同）・住宅地区の組み合わせとして適切なものを、表4の①～⑥の中から1つ選べ。

解答欄は、。

表4 (組み合わせ)

	①	②	③	④	⑤	⑥
G	住宅地背景型	住宅地背景型	住宅地区	住宅地区	ロードサイド型	ロードサイド型
H	住宅地区	ロードサイド型	住宅地背景型	ロードサイド型	住宅地背景型	住宅地区
I	駅周辺型	駅周辺型	駅周辺型	駅周辺型	駅周辺型	駅周辺型
J	ロードサイド型	住宅地区	ロードサイド型	住宅地背景型	住宅地区	住宅地背景型

(3) 次のK～Mの写真は、広島市郊外の、駅周辺型（商業集積地区）・ロードサイド型（同）・住宅地区に立地するスーパー（ショッピングセンターの中核としての設置も含む）の外観を撮影したものである。K～Mと、駅周辺型・ロードサイド型・住宅地区の組み合わせとして適切なものを、表5の①～⑥の中から1つ選べ。解答欄は、



表5（組み合わせ）

	①	②	③	④	⑤	⑥
K	駅周辺型	駅周辺型	住宅地区	住宅地区	ロードサイド型	ロードサイド型
L	住宅地区	ロードサイド型	駅周辺型	ロードサイド型	駅周辺型	住宅地区
M	ロードサイド型	住宅地区	ロードサイド型	駅周辺型	住宅地区	駅周辺型

問3 サービス業に関する（1）～（4）に答えよ。

(1) 医療・福祉産業について述べた文章の中で、下線部が適切でないものを、次の①～④の中から1つ選べ。解答欄は、

対人サービスを提供する医療・福祉産業は、①事業収入に対する人件費の比率が高い。そのため賃金や待遇の改善には限界があり人手を十分に確保することが難しく、②少子高齢化が進むとともに増大する需要を満たすことはできていない。看護師や介護福祉士については、専門性が高いため、③外国人人材の受け入れはEPA（経済連携協定）の枠組みでは不可能である。ほかの先進国では発展途上国との④所得格差を前提として移民労働者がケア労働を担っていることが多い。

(2) 都道府県ごとの「医療・福祉」・「情報通信業」・「製造業」・「農業・林業」の産業別従業者数割合を示した図4のうち、「医療・福祉」従業者について説明した文として最も適切なものを、次の①～④の中から1つ選べ。

解答欄は、ケ。

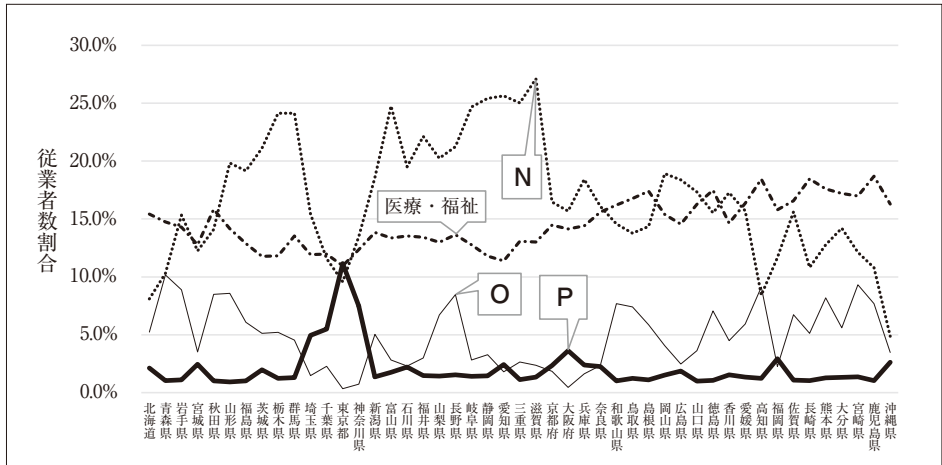


図4 日本の都道府県ごとの産業別従業者数割合（2020年）

数値は、総務省統計局国勢調査「人口の労働力状態，就業者の産業・職業」による。

- ① 若者の就業が伸び悩み、過疎化の進む地方は首都圏に比べてその割合は小さい。
- ② 国民皆保険制度のもと人口規模に応じた需要があり、都道府県で2倍を上回るような大きな差がない。
- ③ 労働力指向型の立地傾向のため、製造業従業者の多い地方の割合が大きい。
- ④ 専門的技術の要因で、地理的近接の重要性が反映されて首都圏の割合が大きい。

(3) 図4中のN～Pの産業の組み合わせとして適切なものを、表6の①～⑥の中から1つ選べ。解答欄は、

表6 (組み合わせ)

	①	②	③	④	⑤	⑥
N	情報通信業	情報通信業	製造業	製造業	農業・林業	農業・林業
O	製造業	農業・林業	情報通信業	農業・林業	情報通信業	製造業
P	農業・林業	製造業	農業・林業	情報通信業	製造業	情報通信業

(4) 図4中のPの産業の従業者数は、首都圏、特に東京都に一極集中していることがわかる。この要因の説明として適切でないものを、次の①～④の中から1つ選べ。解答欄は、

- ① 都心取引先となる企業が多く立地している。
- ② 情報、デザイン、広告など、より専門的な外部の企業に発注するにあたり、地理的近接性が重要となる。
- ③ 成長段階の企業が集積することで、多様な知識やアイデアに直接触れる機会が多く得られる。
- ④ 再生可能エネルギーの利用で、エネルギーの地産地消ができる。

問4 観光業について、(1)、(2)に答えよ。

(1) ヨーロッパでは、毎年夏に長期休暇を取って余暇を過ごす習慣があり、特に地中海沿岸の保養型リゾート地の滞在型観光需要が大きい。この習慣の名称として適切なものを、次の①～④の中から1つ選べ。

解答欄は、

- ① エコツアーリズム                      ② ツアー
- ③ オーバーツアーリズム              ④ バカンス

(2) 次の表7は、アメリカ合衆国・中国・日本・フランスの外国旅行による収入額と支出額を示したものである。空欄Q～Sに入る国名の組み合わせとして適切なものを、表8の①～⑥の中から1つ選べ。

解答欄は、

ス
---

。

表7 外国旅行による収入額と支出額 (2019年、百万ドル)

	インバウンド (収入額)	アウトバウンド (支出額)
日本	46,054	21,277
<b>Q</b>	198,983	132,273
<b>R</b>	63,424	50,507
<b>S</b>	35,832	254,621

数値は、矢野恒太記念会『世界国勢図会 2024/25』による。

表8 (組み合わせ)

	①	②	③	④	⑤	⑥
<b>Q</b>	アメリカ合衆国	アメリカ合衆国	中国	中国	フランス	フランス
<b>R</b>	中国	フランス	アメリカ合衆国	フランス	アメリカ合衆国	中国
<b>S</b>	フランス	中国	フランス	アメリカ合衆国	中国	アメリカ合衆国

### 第3問 アフリカに関する次の文章を読んで、問1～問7に答えよ。

アフリカ大陸の形成は極めて古く、そのほとんどが あ であり、a 全体的に台地状の地形をなしている。一方、大陸東部には b 全長 7,000kmにも及ぶ巨大な地溝帯が走っている。

アフリカ大陸には気候に大きな影響を与えるような山脈が少ないため、c 赤道を軸に南北とも緯度に沿って気候区がほぼ帯状に変化している。北アフリカの大部分は世界最大の砂漠であるサハラ砂漠が広がり、降水量が極めて少ないため農業には適さないが、東部には い 河川である世界最長のナイル川が南から北に流れ、その流域では灌漑農業が見られる。西部の う 地方は7世紀にアラブ人が来るまでは先住民族である遊牧民が居住していたが、ムスリム商人によってイスラームがもたらされ、え は現在、北アフリカの多くの国で公用語となっている。

アフリカ大陸の国々は19世紀末までにはほぼ全域が、資源や市場の獲得を目指したヨーロッパ諸国の植民地となっていたため、こうした豊富な資源や植民地期のプランテーション農業の影響で、d 特定の一次産品に依存するモノカルチャー経済の国も少なくない。そのため e エネルギー資源や様々な金属資源、ダイヤモンドなどが豊富に存在するもの、その開発・販売は外国資本の企業に依存し、それらの収益が地元の雇用や収入に結びついていないという課題がある。f 現在でも旧宗主国と文化・経済面でのつながりが残っている地域が多いが、近年では経済の多角化が進められ、主要な貿易相手国が変化している国も多い。

問1 文章中の あ ～ え に適する語句を、それぞれにある選択肢の①～④の中から1つずつ選べ。解答欄は、 ～ .

あ ① 安定陸塊 ② 古期造山帯 ③ 新期造山帯 ④ 洪積台地  
解答欄は、.

い ① 一級 ② 外来 ③ 内陸 ④ ワジ  
解答欄は、.

う ① サブサハラ ② カタンガ ③ マグレブ ④ サヘル  
解答欄は、.

え ① 英語 ② アラビア語 ③ スワヒリ語 ④ ヒンディー語  
解答欄は、.

問2 下線部aについて、次の表1はアフリカ・アジア・ヨーロッパ・オーストラリアの各大陸の高度別面積割合を示したものである。このうちアフリカ大陸に該当するものを、表1の①～④の中から1つ選べ。

解答欄は、.

表1 大陸別・高度別面積割合（数値は%）

高度 (m)	①	②	③	④	全大陸
200 未満	24.6	52.7	9.7	39.3	25.3
200 ～ 500	20.2	21.2	38.9	41.6	26.8
500 ～ 1,000	25.9	15.2	28.2	16.9	19.4
1,000 ～ 2,000	18.0	5.0	19.5	2.2	15.2
2,000 ～ 3,000	5.2	2.0	2.7	0.0	7.5
3,000 ～ 4,000	2.0	0.0	1.0	0.0	3.9
4,000 ～ 5,000	4.1	0.0	0.0	0.0	1.5
5,000 以上	1.1	-	0.0	-	0.4

数値は、帝国書院『地理データファイル 2025年版』による。

問3 下線部 b について述べた文のうち、下線部が適切でないものを、次の

①～④の中から1つ選べ。解答欄は、。

- ① この地溝帯はプレートの広がる境界にあって、将来はここを境にアフリカ大陸は東西に分裂すると考えられている。
- ② この地溝帯は裂け目に水がたまって形成された湖のほか、付近には標高5,000 m以上の火山が見られる。
- ③ この地溝帯は東部地溝帯と西部地溝帯に分かれ、このうち東部地溝帯では最も古い時代の人類化石が数多くみつかったことから、人類進化の舞台と言われている。
- ④ この地溝帯は巨大な断層帯を形成しており、その断層に沿ってコンゴ川やニジェール川などの大河川が流れている。

問4 下線部 c について、アフリカ大陸は地球上の位置の基軸となる緯度0°と経度0°が通っている唯一の大陸である。図1中のA～Dの線のうち、緯度0°・経度0°線の組み合わせとして適切なものを、表2の①～④の中から1つ選べ。解答欄は、。

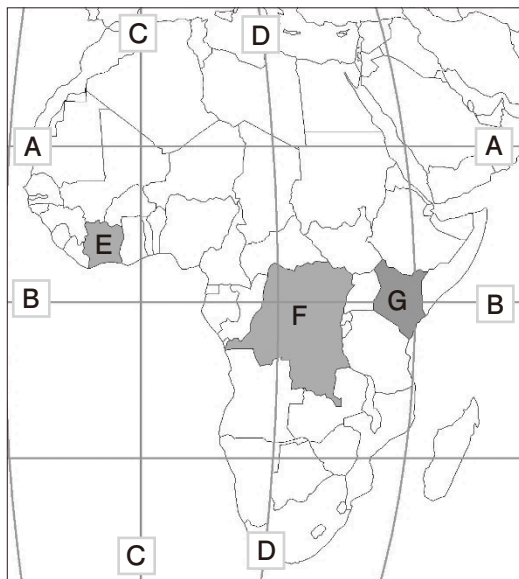


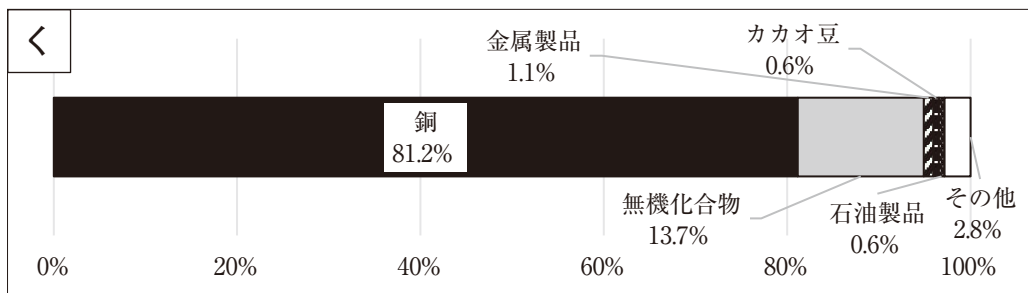
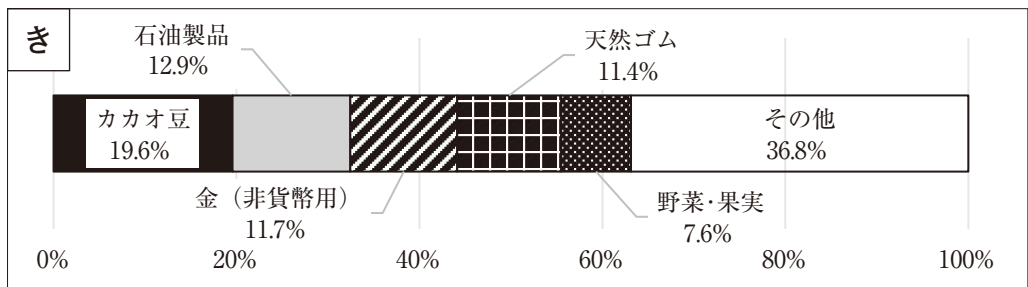
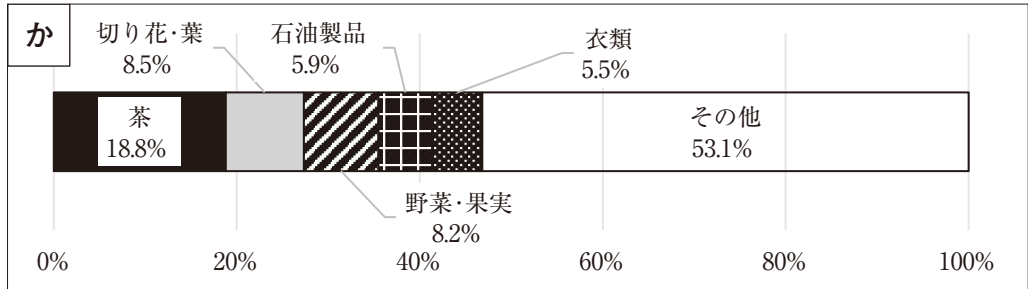
図1中のA～Dの線のうち、緯度0°・経度0°線の組み合わせとして適切なものを、表2の①～④の中から1つ選べ。解答欄は、。

表2 (組み合わせ)

	①	②	③	④
緯度0°	A	A	B	B
経度0°	C	D	C	D

図1

問5 下線部dに関連して、次のグラフか～くは、図1中のE～Gの国における主な輸出品目の割合（2022年）を表したものである。この組み合わせとして適切なものを、表3の①～⑥の中から1つ選べ。解答欄は、ク。



数値は、矢野恒太記念会『世界国勢図会 2024/25』による。

表3（組み合わせ）

	①	②	③	④	⑤	⑥
か	E	E	F	F	G	G
き	F	G	E	G	E	F
く	G	F	G	E	F	E

問6 下線部eに関連して、次の図2～図4は原油・ダイヤモンド・金のアフリカ大陸内の生産上位国を示したものである。この組み合わせとして適切なものを、表4の①～⑥の中から1つ選べ。解答欄は、**ケ**。

ただし原油は2023年、ダイヤモンドは2021年、金は2022年の生産量をもとに作図している。



図2



図3

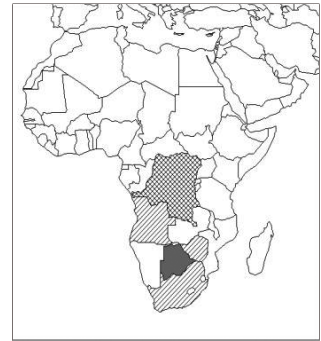





図4

生産量1位  2位  3～5位 

数値は、矢野恒太記念会『世界国勢図会 2024/25』による。

表4 (組み合わせ)

	①	②	③	④	⑤	⑥
図2	原油	原油	金	金	ダイヤモンド	ダイヤモンド
図3	金	ダイヤモンド	原油	ダイヤモンド	原油	金
図4	ダイヤモンド	金	ダイヤモンド	原油	金	原油

問7 下線部 f に関連して、次の表5はアルジェリア・南アフリカ共和国・ケニアの「金額による貿易相手国・地域の割合」を表したものである。表5中のさ～すに該当する国名の組み合わせとして適切なものを、表6の①～⑥の中から1つ選べ。解答欄は、。

表5 金額による貿易相手国・地域の割合（数値は%）

アルジェリア	輸出	イタリア	16.0	さ	12.6	スペイン	11.7	し	9.9	ブラジル	6.0
	輸入	す	18.1	さ	9.3	イタリア	8.2	ドイツ	7.0	スペイン	6.8
南アフリカ共和国	輸出	す	11.3	し	7.5	ドイツ	6.8	モザンビーク	5.6	日本	5.2
	輸入	す	20.5	し	8.6	ドイツ	8.1	インド	7.0	アラブ首長国連邦	3.7
ケニア	輸出	ウガンダ	12.5	パキスタン	7.9	オランダ	7.6	タンザニア	6.8	し	6.4
	輸入	す	17.6	アラブ首長国連邦	15.8	インド	10.3	サウジアラビア	5.6	マレーシア	4.6

数値は、二宮書店『データブック・オブ・ザ・ワールド 2025』による。

表6（組み合わせ）

	①	②	③	④	⑤	⑥
さ	アメリカ合衆国	アメリカ合衆国	中国	中国	フランス	フランス
し	中国	フランス	アメリカ合衆国	フランス	アメリカ合衆国	中国
す	フランス	中国	フランス	アメリカ合衆国	中国	アメリカ合衆国

[地理総合・地理探究の問題は以上です。]

# 令和8年度 政治・経済入試問題（1日目）

第1問 次の文章を読み、下の問い（問1～問8）に答えよ。

㉑市民革命を経て登場した近代以降の民主主義国家では通常、政治の基本的なあり方について記した憲法に従い民主政治を行っており、そのあり方は「」という言葉によく示されている。

その政治は、を持つ国民が直接政治に参加する㉒直接民主制が理想的であるが、実施には困難もあり、国民が間接的にを行使する、すなわち国民が自ら選んだ代表者を通して政治を行う間接民主制、言い換えるとが広く採用されている。

間接民主制の具体的な制度としては議院内閣制や大統領制などがある。まずで発達した議院内閣制は、議会を基盤にして内閣などが成立するため、立法権と行政権とが密接な関係にある。具体的には、議員を国民がし、議会で多数を占める党派が、与党として内閣を組織し、行政に責任を負うことになる。例えば日本では、内閣が国会の信任を失うと、しなくてはならない。

また議院内閣制では政権についていない政党が、いわゆる「」を組織する等して、政策をめぐり与党と議論を交わし、次のにのぞむことになる。

議院内閣制と対比される大統領制は、で確立されて広まった。これは立法府の議員と行政府の長である大統領をそれぞれ国民がすることで、互いに強い独立性をもっており、権力のがはかられている。この点で議院内閣制よりも、が貫かれているといえる。なおこのため、議会と大統領が対立すること、議会の多数派政党が大統領の支持政党と異なることもある。

いずれの制度であっても、間接民主制を行うためには、者である国民がすぐれた代表者を選ぶことが極めて重要となる。そのために行われるは、現代民主政治の基盤なのである。

問1 文章中の空欄 **ア** ～ **ウ** に入る語句として最も適当なものを、下の

①～⑨のうちからそれぞれ一つ選べ。

解答欄は **ア**、**イ**、**ウ**

- ① 主権                      ② 自然権                      ③ 司法権                      ④ 選挙  
 ⑤ 社会民主主義              ⑥ 立憲君主制              ⑦ 国民投票  
 ⑧ イニシアティブ              ⑨ 議会制民主主義

問2 文章中の空欄 **エ**、**オ** に入る語句として最も適当なものを、下の

①～⑦のうちからそれぞれ一つ選べ。解答欄は **エ**、**オ**

- ① 最大派閥              ② 影の内閣              ③ 圧力団体              ④ 特殊法人  
 ⑤ 権力分立              ⑥ 権力集中              ⑦ 独裁

問3 文章中の下線部①に関連して、各市民革命に際して出された人権宣言について、年代順に並べたものとして最も適当なものを、下の①～④のうちから一つ選べ。解答欄は **カ**

- ① アメリカ独立宣言 → フランス人権宣言 → 権利章典  
 ② フランス人権宣言 → 権利章典 → アメリカ独立宣言  
 ③ 権利章典 → フランス人権宣言 → アメリカ独立宣言  
 ④ 権利章典 → アメリカ独立宣言 → フランス人権宣言

問4 文章中の下線部②について、日本国憲法に取り入れられている直接民主制的な方法として最も適当なものを、下の①～④のうちから一つ選べ。

解答欄は **キ**

- ① 反論権              ② 事務監査              ③ 国民投票              ④ 免責特権

問5 文章中の空欄 **X** に入る記述として最も適当なものを、下の

①～④のうちから一つ選べ。解答欄は **ク**

- ① 万人の万人に対する闘争  
 ② 人民の人民による人民のための政治  
 ③ ゆりかごから墓場まで  
 ④ 人間は社会的動物である

問6 文章中の空欄 、 に入る国名の組合せとして最も適当なものを、下の ①～⑥ のうちから一つ選べ。解答欄は

- ① ドイツ                      アメリカ
- ② イギリス                      フランス
- ③ フランス                      ドイツ
- ④ ドイツ                      イギリス
- ⑤ イギリス                      アメリカ
- ⑥ フランス                      アメリカ

問7 文章中の空欄  に入る記述として最も適当なものを、下の ①～④ のうちから一つ選べ。解答欄は

- ① 内閣は総辞職するか衆議院を解散
- ② 内閣は総辞職するとともに衆議院を解散
- ③ 首相は辞職するか参議院を解散
- ④ 首相は辞職するとともに衆議院と参議院を解散

問8 文章中の空欄  に入る語句として最も適当なものを、下の ①～④ のうちから一つ選べ。解答欄は

- ① 勢力均衡
- ② 抑制と均衡
- ③ 集中
- ④ 権威主義

## 第2問 次の文章を読み、下の問い（問1～問6）に答えよ。

社会では、様々な課題が生じる。政策の実施は、われわれの直面する社会的課題の解決に直接関係する。政策の実現に向けて、それを立案し実施するには、**a**政治権力が必要となる。その権力を行使するための正当性は、**b**選挙にあるので、**c**選挙が正しく行われることは大変重要である。われわれは、選挙で投票を行うが、代表として誰が選ばれるかは、選挙の方法によって異なることがある。このことは、選挙の方法によって選ばれる政策が異なることを意味する。このことを理解するには、**d**モデルを用いることが有効となる。

政党は、政策を掲げて選挙を行い、議席を多く獲得しようとする。選挙で多くの議席を獲得し政権を担当する政党は、**ア**と呼ばれ、政権に参加しない政党は、**イ**と呼ばれる。**イ**には、**ア**や政府の政策を批判し、政権運営を監視するなどの重要な役割があり、その効果として、**イ**が**ア**となる**ウ**が実現する。**ウ**は、一時的なものとなる場合もあり、また、参議院で**ア**が過半数を下回る**エ**国会が生じることがある。

政党政治の形態としては、二大政党制や**オ**があり、一つの政党で議席の過半数を獲得できない場合、複数の政党が政権を担当する**カ**が誕生する。

選挙は、われわれの意思を政治に反映させるうえで重要な役割を果たすため、選挙に行き投票することが大切である。

問1 文章中の空欄**ア**～**ウ**に入る語句として適当なものを、下の

①～⑨のうちからそれぞれ一つ選べ。解答欄は**ア**、**イ**、**ウ**

- ① 与党                      ② 名望家政党              ③ 大衆政党              ④ 中道政党  
⑤ 包括政党              ⑥ 野党                      ⑦ 政権交代              ⑧ 株主総会  
⑨ 内閣改造

問2 文章中の空欄 **エ** ～ **カ** に入る語句として適当なものを、下の

①～⑨のうちからそれぞれ一つ選べ。解答欄は **エ**、**オ**、**カ**

- ① 連座制      ② 多党制      ③ 第一政党      ④ 連立政権  
⑤ 単独政権      ⑥ 圧力団体      ⑦ 貧困      ⑧ 温暖化  
⑨ ねじれ

問3 下線部①に関連して日本の選挙制度の説明として適当でないものを、下の

①～④のうちから一つ選べ。解答欄は **キ**

- ① 衆議院議員総選挙は小選挙区と全国を複数のブロックに分けた比例代表によって議席を獲得する。  
② 参議院議員通常選挙は選挙区と全国を一つのブロックとした比例代表によって議席を獲得する。  
③ 衆議院議員総選挙や参議院議員通常選挙では仕事や留学で海外に住んでいる有権者は、投票できない。  
④ 衆議院議員総選挙における比例代表制と参議院議員通常選挙における比例代表制には提出する名簿に違いがある。

問4 下線部⑥に関連して、下の文章中の空欄  ～  に入る数字の組み合わせとして適当なものを、下の ① ～ ⑤ のうちから一つ選べ。

解答欄は

表

議席数	6		
政党名	L 党	M 党	N 党
候補者数	4	3	3
得票数	1000	600	400

比例代表制で得票数に応じた議席配分に用いられるドント方式では、各政党の得票数を、はじめに1で除し、次に2で除し、その次に3で除しそれぞれ商を求める作業を行い、それらの数字の大きい順に、各政党に定数の議席を割り振っていく。

ここで、定数6とし、L党の候補者は4名、M党の候補者は3名、N党の候補者は3名であり、これらの3党は、選挙でそれぞれ、1000票、600票、400票獲得したものとする。

まず、 $1000 \div 1$ 、 $600 \div 1$ 、 $400 \div 1$ を行い、次に、 $1000 \div 2 = 500$ 、 $600 \div 2 = 300$ 、 $400 \div 2 = 200$ 、続いて $1000 \div 3 = 333.3$ 、 $600 \div 3 = 200$ 、 $400 \div 3 = 133.3$ となり、これらの数値の大きな順に、各政党に議席が割り振られる。その結果、L党の1000、M党の600、L党の500、N党の400、L党の333.3、M党の300となり、L党が  議席、M党が  議席、N党が  議席を獲得する。

- ① A 3、B 2、C 1
- ② A 4、B 1、C 1
- ③ A 4、B 2、C 0
- ④ A 4、B 0、C 2
- ⑤ A 3、B 3、C 0

問5 下線部③に関連して、選挙が公正に実施されるための法律として適当なものを、下の ① ～ ④ のうちから一つ選べ。解答欄は

- ① 国民投票法      ② 独占禁止法      ③ 公職選挙法      ④ 国民保護法

問6 下線部④に関連して、次の表を含む文章を読み、それに続く小問(1)～小問(3)に解答せよ。

直面する社会的課題の解決に向け、各政党は、選挙で多くの得票数を獲得しようと、有権者が求める政策を掲げて競っている。政党としてL党とM党の二党があり、有権者1から有権者5の5人が各党の政策に投票するモデルを考えよう。選挙の争点となる政策として、物価対策、エネルギー政策、政治資金などがあり、物価対策については、L党は減税でM党は給付金を、エネルギー政策については、L党は原発推進でM党は原発反対を、政治資金については、L党は企業献金禁止でM党は企業献金の透明性を高めることを主張しているものとする。

表

有権者	物価対策	エネルギー	政治資金
1	L	M	M
2	M	L	M
3	M	M	L
4	L	L	L
5	L	L	L

有権者1は、物価対策はL党、エネルギー政策はM党、政治資金はM党を支持しているので、より多くの政策を実現してくれるM党に投票するものとする。有権者2から有権者5についても表のような政策への選好を持っていて、有権者1と同様に、各自の選好に従い、どちらかの政党に投票するものとする。

小問(1) 上の表及び文章から、有権者1の行動と同様の行動をとったとき、有権者2から有権者5が投票する政党及び、選ばれる政党に関する記述として適当なものを、下の①～⑤のうちから一つ選べ。

解答欄は

- ① 有権者2から有権者5はそれぞれM、L、M、Lに投票し、M党が選ばれる
- ② 有権者2から有権者5はそれぞれM、M、L、Lに投票し、M党が選ばれる
- ③ 有権者2から有権者5はそれぞれL、M、M、Lに投票し、M党が選ばれる
- ④ 有権者2から有権者5はそれぞれM、L、L、Lに投票し、L党が選ばれる
- ⑤ 有権者2から有権者5はそれぞれL、M、L、Lに投票し、L党が選ばれる

小問(2) 上の表及び文章を参考に、仮に個別の政策ごとに投票した場合、選ばれる政策として適当なものを、下の①～⑤のうちから一つ選べ。

解答欄は

- ① すべての政策でL党が選ばれる。
- ② 物価対策はL党、エネルギー政策はM党、政治資金はL党が選ばれる。
- ③ 物価対策はL党、エネルギー政策はM党、政治資金はM党が選ばれる。
- ④ 物価対策はL党、エネルギー政策はL党、政治資金はM党が選ばれる。
- ⑤ すべての政策でM党が選ばれる。

小問(3) 上の表及び文章に関連する下欄にある文章中の  に入る記述として最も適当なものを、下の ①～⑤のうちから一つ選べ。

解答欄は

政党への投票の結果として選ばれる政策と、個別の政策への投票結果が 。

- ① 政治資金だけ異なる
- ② エネルギー政策だけ異なる
- ③ 物価対策だけ異なる
- ④ すべて一致する
- ⑤ すべて異なる

### 第3問 次の文章を読み、下の問い（問1～問8）に答えよ。

経済の状態を考えるうえで重要な指標や数値には様々なものがある。そのような指標や数値をみるうえで重要な概念は、ストックと **ア** の二つである。ストックは、ある一時点での蓄積された資産などであり、代表的なものとして **イ** が挙げられる。一方、**ア** は、一定期間内の経済活動を示すものである。その中でも最も代表的な指標が ㉑GDP（国内総生産） である。この指標は基本的に1年間に国内で生産された生産物の価額から、原材料費などの中間生産物の価額を差し引いた付加価値の合計である。GDPの水準やその成長率で景気の良し悪しが測られることが多い。また、GDPとよく似た概念として **ウ** がある。**ウ** は、国民が1年間に生み出した財・サービスの付加価値の合計で、GDPに海外からの純所得を加えたものに等しい。

経済活動の規模が拡大することを経済成長という。一定期間における経済成長の速度を示す経済成長率は、一般的にはGDPの対前年増加率で測定され、㉒名目経済成長率と実質経済成長率がある。名目経済成長率は、金額の変化のみを測定したものであり、実質経済成長率は、物価の上昇分を調整して、実質的な経済成長を測定するために用いられる数値である。

経済の状況を見るには、物価についての指標も重要である。財・サービスの価格を、総合的・平均的に見たものを物価と呼ぶ。物価は物価指数とよばれる指標で評価されることが多い。物価指数とは、さまざまな財・サービスの価格を指数化したもので、㉓消費者物価指数や企業物価指数などがある。その他、一国経済の総合的な物価を測る指標として㉔GDPデフレーターがある。

国際間の経済取引に関する指標や数値も経済の状態を考えるうえで重要である。国際間の経済取引の受取額と支払額をある一定期間（主として1年間）にわたって総合的に記録したものを国際収支という。㉕国際収支は、大きく経常収支、金融収支、資本移転等収支に区分される。

経常収支は、貿易・サービス収支と第一次所得収支、第二次所得収支からなる。貿易・サービス収支は、財・サービスの外国との取引を計上している。第一次所得収支は、雇用者への賃金の支払い（雇用者報酬）や、対外金融資産から得られる利子・配当（投資収益）の受け払いを計上している。第二次所得収支

は、無償援助や **エ** への拠出金など、対価を伴わない収支である。金融収支は、**オ** ・証券投資・金融派生商品・その他投資・**フ**外貨準備に分類される。

問1 文章中の空欄 **ア** ～ **ウ** に入る語句として最も適当なものを、下の

①～⑨のうちからそれぞれ一つ選べ。

解答欄は **ア**、**イ**、**ウ**

- ① フロー                      ② 分配                      ③ ペイオフ  
④ 国民総所得                ⑤ 国民純福祉              ⑥ 一般会計  
⑦ デフォルト                ⑧ 固定資本減耗            ⑨ 国富

問2 文章中の空欄 **エ**、**オ** に入る語句として最も適当なものを、下の

①～⑧のうちからそれぞれ一つ選べ。解答欄は **エ**、**オ**

- ① 直接投資                    ② 財政投融资              ③ 宗教法人  
④ 民間企業                    ⑤ 国際機関                  ⑥ 日本政府  
⑦ 予備的投資                ⑧ 公共投資

問3 下線部 **ア** に関連した次の文章を読み、空欄 **カ** ～ **ケ** に入る最も適当な数値を、下の ①～⑨のうちからそれぞれ一つ選べ。

解答欄は **カ**、**キ**、**ク**、**ケ**

GDPは、主に1年間に、日本国内で新しく作り出された財・サービスの価値の合計と定義される。この新しく作り出された価値の合計について、パンの生産で考えてみる。パンを作って販売するには、何段階かの製造工程が必要である。例えば農家が小麦を100億円分生産したとしよう。この時農家の中間生産物への支払いは無いものとする。これを製粉会社が原料として買い入れて、全部で250億円分の小麦粉を生産したとする。このとき、製粉会社が新しく作り出した価値は、**カ**となる。さらに、製パン会社が小麦粉250億円をすべて仕入れ、500億円分のパンを生産したとする。このとき、製パン会社が新しく作り出した価値は、**キ**となる。これをスーパーやコンビニがすべて仕入れ、600億円で販売したとする。このとき、スーパーやコンビニが新しく作り出した価値は、**ク**となる。このパンの製造の例で、新たに作り出された価値の合計は、最終的に**ケ**となる。

- ① 800億円    ② 300億円    ③ 600億円    ④ 250億円    ⑤ 100億円  
⑥ 1200億円    ⑦ 350億円    ⑧ 700億円    ⑨ 150億円

問4 下線部⑥に関連して、以下の経済成長率の計算例の空欄 、

に入る、最も適当な数値を下の ①～⑧ のうちからそれぞれ一つ選べ。

解答欄は 、

昨 年 の 名 目 GDP	今 年 の 名 目 GDP	昨 年 の 実 質 GDP	今 年 の 実 質 GDP	今 年 の 名 目成長率	今 年 の 実 質成長率
<input type="text" value="コ"/> 兆円	840兆円	800兆円	820兆円	5%	<input type="text" value="サ"/> %

- ① 800      ② 900      ③ 850      ④ 700  
 ⑤ 10.5%    ⑥ 2.5%    ⑦ 3.5%    ⑧ 20.5%

問5 下線部③の説明として最も適当なものを、下の ①～④ のうちから一つ選

べ。解答欄は

- ① 消費者が小売段階で購入する財・サービスの価格に基づく指数。  
 ② 消費者が卸売段階で購入する財・サービスの価格に基づく指数。  
 ③ 財務省主計局が毎月作成・公表している。  
 ④ 厚生労働省医薬食品局が毎月作成・公表している。

問6 下線部④に関連した次の文章を読み、空欄 ～ に入る最も適

当な語句や数値を、下の ①～⑨ のうちからそれぞれ一つ選べ。

解答欄は 、、

GDP デフレーターとは、GDP を用いた物価指数のことである。 で算出した名目 GDP が大きくても、物価が上昇していれば、必ずしも、経済規模が増大したとは言い切れない。そこで実質 GDP を算出する意味がある。GDP デフレーターは基準年を 100 とする物価変動の指標である。

なお、GDP デフレーターは名目 GDP と実質 GDP により算出される。例えば、2015 年の名目 GDP が 500 兆円、実質 GDP が 500 兆円、2025 年の名目 GDP が 540 兆円、実質 GDP が 360 兆円と仮定すると、2015 年を基準年とした場合の 2025 年の GDP デフレーターの数値は  である。この結果を見ると、基準年と比較して 2025 年の物価は  したといえる。

\* GDP デフレーター = 名目 GDP ÷ 実質 GDP × 100

- ① 市場価格    ② 企業物価    ③ 低下    ④ 150    ⑤ 株価  
 ⑥ 108    ⑦ 上昇    ⑧ 120    ⑨ 継続

問7 下線部㉔に関連する説明として、明らかに誤っているものを、下の①～

④のうちから一つ選べ。解答欄は

- ① 日本から海外への輸出による収入が増加すると、日本の経常収支に対してプラスにはたらく。
- ② 日本の居住者が海外の株式や不動産を購入した場合、資産の増減という観点からは日本の金融収支に対してプラスにはたらく。
- ③ 資本移転等収支では、外国に対する債務免除はマイナスにはたらく。
- ④ 経常収支の第一次所得収支では、海外に留学中の子供への仕送りはマイナスにはたらく。

問8 下線部㉕に関連する説明として、明らかに誤っているものを、下の①～

④のうちから一つ選べ。解答欄は

- ① 政府や中央銀行が対外支払いに備えて保有している外貨や金のこと。
- ② 為替相場が急激に変動する際の為替介入の資金としても備えられている。
- ③ 通貨危機などの緊急事態のセーフティネットとしての機能を果たす。
- ④ 消費税を財源とし、物価対策を主目的として保有されている。

#### 第4問 次の文章を読み、下の問い（問1～問9）に答えよ。

日本における会社の形態には、㉑株式会社、合名会社、合資会社、合同会社などがある。その中でも大多数を占めるのが株式会社である。株式会社は生産活動に必要な資金を株式を通じて多数の出資者から集めている。また、銀行借り入れや ア などの負債という形でも資金を調達している。一方、株式による資金調達の場合、株式会社は株式を売り出し、出資者に購入してもらうという形をとる。株式を買った者（出資者）は株主と呼ばれ、配当を受け取る権利や ㉒株主総会 に出席し投票する権利（議決権）などいくつかの権利を有する。株主は、会社が倒産した場合、出資した金額だけを失い、それ以上の負債を返済する義務を負わない。このことを ㉓株主の有限責任 という。また、今日の株式会社の特徴として イ があげられる。大規模な株式会社では、出資者が多数になることから、株主が直接会社の経営を行うことが少なく、株主総会において株主が専門の経営者（取締役）を選び経営を委託している。

現在、日本の企業のうち ㉔中小企業 の数は約 99%、従業員数は約 70%、売上高の約 40% を占めている。中小企業は大企業の下請けや系列として部品の製造や加工を行う企業のほか、サービス業、建設業、流通業などあらゆる事業分野に存在する。日本の場合、中小企業と大企業の間で、資本装備率、生産性、収益性、従業員の賃金などの面で大きな格差があり、この格差はかつて日本経済の ウ と呼ばれていた。しかし、中小企業の中には、情報産業などの分野で、旺盛な起業家精神をもって、高い専門性や技術力を発揮して、成長を続けているベンチャー企業も多い。あるいは、既成の産業が見落としていた「すきま」に活路を見出してビジネスを展開する エ と呼ばれる企業や産業もある。また、福祉や環境などの分野では、NPO や NGO などが活躍しており、新しい ㉕社会的企業 の活動も目立ち始めている。

これらの企業は、社会を構成するメンバーでもある。企業は、消費者が安心して商品を購入できるように品質について責任を持つだけでなく、その活動が社会に及ぼす影響についても配慮する必要がある。このため、企業は ㉖コンプライアンス を徹底し、株主や従業員や取引先などの オ を含む多くの人々や社会に



- ① A—無限責任の社員と有限責任の社員      B—無限責任の社員  
C—有限責任の社員
- ② A—有限責任の社員      B—無限責任社員と有限責任の社員  
C—無限責任の社員
- ③ A—無限責任の社員      B—無限責任の社員と有限責任の社員  
C—有限責任の社員
- ④ A—無限責任の社員      B—有限責任の社員  
C—無限責任の社員と有限責任の社員

小問(2) 表の空欄  に入る最も適当なものを、下の ①～④のうちから一つ選べ。解答欄は

- ① 家族や親族経営の小規模な会社が多い。
- ② 株式を証券取引所に上場している会社が多い
- ③ 小規模な会社が多いため、全て非課税となっている。
- ④ 株式を発行し、外国で販売することが多い。

問4 下線部⑥の語句についての説明として最も適当なものを、下の ①～④のうちから一つ選べ。解答欄は

- ① 株主は取締役会においても議決権を持ち、取締役を解任することができる。
- ② 議決権は、すべての株主に平等に1票ずつ与えられている。
- ③ 同一種類の株式を持つ株主は、その所有する株式数に応じて平等に議決権を行使することができる。
- ④ 議決権は、常に大株主のみが行使でき、少数株主には議決権の行使は一切認められていない。

問5 下線部㉔の語句についての説明として最も適当なものを、下の①～④のうちから一つ選べ。解答欄は

- ① 株主の有限責任によって、大株主の影響力が強まったので、少数株主は有限責任とは無関係となった。
- ② 株主の有限責任によって、株式会社の経営は大きなダメージを負うことになり、株式会社が金融政策をしにくくなった。
- ③ 株主の有限責任によって、株式会社は多くの出資者をつのり、関税をかけやすくなった。
- ④ 株主の有限責任によって、投資家が安心して出資できるようにすることで会社の資金調達がしやすくなった。

問6 下線部㉔に関連して、以下の表は中小企業を資本金と従業員数で定義したものである。

資本金か従業員数のいずれかが以下の表に当てはまると中小企業とされる。

表中の空欄  ～  に入る最も適当なものを、下の①～⑨のうちからそれぞれ選べ。解答欄は 、、

業種	資本金	従業員
製造業、その他	<input type="text" value="サ"/>	300人以下
卸売業	1億円以下	100人以下
サービス業	5000万円以下	<input type="text" value="シ"/>
<input type="text" value="コ"/>	5000万円以下	50人以下

- ① 5億円以下      ② 農業      ③ 200人以下      ④ 金融業
- ⑤ 小売業      ⑥ 25人以下      ⑦ 4億円以下
- ⑧ 3億円以下      ⑨ 100人以下

問7 下線部㉔の語句についての説明として最も適当なものを、下の①～④のうちから一つ選べ。解答欄は

- ① 政府の認可を受けて設立された公的法人である。
- ② 株式を公開しているすべての大企業を指す。
- ③ 収益活動を通じて、社会的課題を解決する。
- ④ 公共事業の下請けをすることを唯一の目的とする。

問8 下線部㉕の語句についての説明として最も適当なものを、下の①～④のうちから一つ選べ。解答欄は

- ① 法令や社会規範を遵守し、企業活動を適正に行うこと。
- ② 利益を最大化するための経営戦略のこと。
- ③ 企業がある産業で寡占状態を作り出すための会計戦略のこと。
- ④ 企業価値を高め、株式を非公開化する手続きのこと。

問9 下線部㉖の語句について説明した文章で明らかに誤っているものを、下の①～④のうちから選べ。解答欄は

- ① 環境保護や持続可能な社会の実現に貢献することが求められている。
- ② 消費者に配慮し、従業員の待遇改善や地域社会への貢献が求められている。
- ③ 企業が生産する財やサービスの安全性を重視することが求められている。
- ④ 労働者の権利を制限し、他社との競争で有利な立場に立つことが求められている。

[政治・経済の問題は以上です。]

# 令和 8 年度 数学 I ・ A 入試問題 (1 日目)

第 1 問 次の各問の空欄に当てはまる最も適切な数値を入れよ。

問 1  $a = \sqrt{15} + \sqrt{14}$  のとき,  $a - \frac{1}{a} = \boxed{\text{ア}} \sqrt{\boxed{\text{イウ}}}$ ,

$a^2 + \frac{1}{a^2} = \boxed{\text{エオ}}$  である。

問 2  $125_{(8)}$  を 10 進法で表すと  $\boxed{\text{カキ}}$  となる。

問 3 次のデータは, ある 5 人の数学のテストの点数である。

63    55    59    62    56

これらの点数からそれぞれ 55 を引く。55 を引いたあとの点数の平均値は

$\boxed{\text{ク}}$ , 分散は  $\boxed{\text{ケコ}}$  である。また, 元の点数の平均値は  $\boxed{\text{サシ}}$ , 分散は

$\boxed{\text{スセ}}$  である。

第2問 次の各問の空欄に当てはまる最も適切な数値を入れよ。

問1 白玉が6個，赤玉が12個入っている袋から玉を1個取り出し，色を調べてから元に戻す。この試行を4回続けて行うとき，次の確率を求めよ。

(1) 少なくとも1回は白玉が出る確率は $\frac{\boxed{\text{アイ}}}{\boxed{\text{ウエ}}}$ である。

(2) 白玉がちょうど3回出る確率は $\frac{\boxed{\text{オ}}}{\boxed{\text{カキ}}}$ である。

(3) 4回目に3度目の白玉が出る確率は $\frac{\boxed{\text{ク}}}{\boxed{\text{ケコ}}}$ である。

問2 135の正の約数は $\boxed{\text{サ}}$ 個あり，それら約数の総和は $\boxed{\text{シスセ}}$ である。

第3問 次の各問の空欄に当てはまる最も適切な数値を入れよ。

問1 放物線  $y = x^2 - 2x + 10$  を  $x$  軸方向に 3,  $y$  軸方向に  $-2$  だけ平行移動すると, 放物線  $y = x^2 - \boxed{\text{ア}}x + \boxed{\text{イウ}}$  に重なる。

問2  $k$  は定数とする。放物線  $y = 2x^2 - 2kx + 3k$  が  $x$  軸と異なる 2 点で交わるとき,  $k < \boxed{\text{エ}}$ ,  $\boxed{\text{オ}} < k$  となる。

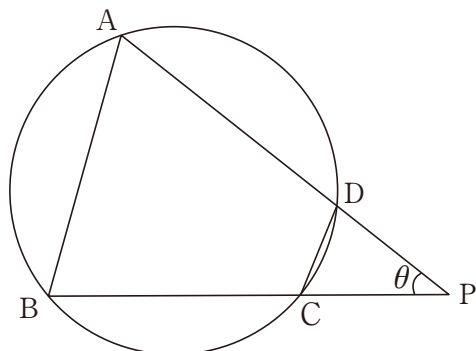
問3 月面から物体を秒速 8m で真上に投げ上げる。  $x$  秒後の物体の高さを  $y$  m とするとき,  $y = -\frac{4}{5}x^2 + 8x$  が成り立つものとする。このとき, 次の間に答えよ。

(1) 物体の高さが最も高い位置に達するのは  $x = \boxed{\text{カ}}$  のときである。

(2) 物体が再度月面に戻ってくるのは  $x = \boxed{\text{キク}}$  のときである。

(3) 物体の高さが 15m 以上にあるのは  $\boxed{\text{ケ}}$  秒間である。

第4問 図のような、円に内接する四角形 ABCD がある。辺 AD と辺 BC の延長の交点を P とし、 $\angle APB = \theta$  とする。AB=2, BC=2, CP=1, AP= $\sqrt{10}$  であるとき、あとの各問の空欄に当てはまる最も適切な数値または番号を入れよ。



問1  $\cos \theta = \frac{\sqrt{\boxed{\text{アイ}}}}{\boxed{\text{ウ}}}$ ,  $\sin \theta = \frac{\sqrt{\boxed{\text{エ}}}}{\boxed{\text{オ}}}$  である。

問2  $\triangle ABP$  の面積は  $\frac{\boxed{\text{カ}} \sqrt{\boxed{\text{キク}}}}{\boxed{\text{ケ}}}$  である。

問3 次の ① ~ ④ のうち、方べきの定理により成り立つ事柄として正しいものが1つだけある。それは、 $\boxed{\text{コ}}$  である。

- ①  $PD \cdot DA = PC \cdot CB$                       ②  $PD \cdot PA = PC \cdot PB$   
 ③  $PD \cdot PB = PC \cdot PA$                       ④  $PD \cdot PC = PB \cdot PA$

問4  $PD = \frac{\boxed{\text{サ}} \sqrt{\boxed{\text{シス}}}}{\boxed{\text{セン}}}$  である。

〔数学の問題は以上です。〕